

Start



1図 『聖高原駅』前  
「明治神宮」の外灯

OD



3図 『筑北村本城総合支所』前  
右手の標識


ここまで 8.578 km

1CP



7図 『虚空蔵林道』入口  
グレーチング

2CP



10図 左手の電柱

3CP



10図先 『青木峠』  
左手の電柱

4CP



11図先 『信州昆虫資料館』  
左手の看板

5CP



14図 左手の『警告…』の看板

6CP



15図 『一旦停止』 標識

7CP



16図先 『智識寺』前 「千曲市  
消防団第十二分団 八坂協和  
班」車庫の手前角

8CP



17図先 『冠着駅』前  
左手の電柱

9CP



21図 『聖博物館』 左手の石  
碑

10CP



23図 『樋知神社』  
左側の狛犬

11CP



26図先 左手の電柱

FCP



29図先 『姨捨駅』前 案内板  
前方の柱

コマ図29図にある駐車場に移  
動してください。

## クイズ1(距離計測)

スタートからゴールまでの各CP間の距離を計測して下さい。

◇エンジョイクラス: 10mの位は四捨五入して、100m単位で答えて下さい。

(0. 1kmの誤差で減点1点)

◇ダンガンクラス : 1mの位は四捨五入して、10m単位で答えて下さい。

(0. 01kmの誤差で減点1)

## クイズ2

## Q-A



(スタート)の聖高原駅からゴールの姥捨駅間の平均勾配は何% (パーミル)か? それぞれの駅で得られる情報で計算し、四捨五入して小数点以下1桁まで答えよ。(減点3点)

## Q-B



(スタート)明治神社の前にある歌碑で、長女の死を詠んだ歌はいくつあるか? (減点3点)

## Q-C



(OD)にある筑北村消防団の火の見櫓には消火用ホースは何本干す事が出来るか? (減点3点)

## Q-D



(OD)近くにある西条神社の拝殿を写真の位置で見た時、右後ろにあるものは何か? (減点3点)

## Q-E



(4図先)にある本城小学校の学有林は、何の森と名付けられているか? (減点3点)

## Q-F



(5図出口)にある林道大洞線は、5図出口から何kmの地点につながっているか? 四捨五入して小数点以下1桁まで答えよ。(±0. 5 kmまでOK) (減点3点)

## Q-G



(7図先)にある「虚空蔵山郷土環境保全区域」の説明板によると、虚空蔵山は何として親しまれているか? (減点3点)

## Q-H



(8図先)この建物は、何か? (減点3点)

## Q-I



(3CP)の近くにある林道は誰の立ち入りを禁止しているか? (減点3点)

Q-J



(4CP) 近くにある『十観山森林公園エリア案内マップ』によると、青木村の特産である植物があるエリアはどこか？ (減点3点)

Q-K



(12図)にある『青木村周辺観光案内図』で明らかに現在と違う表記は何で、正しい表記は何か答えよ。 (減点3点)

Q-L



(14図先)にある「修那羅の泉」の周りには、上室賀自治会の方々が生花を植えているが、その目的は何か？ (減点3点)

Q-M



(15図先)にある「室賀峠史跡公園」にある『村上義清公 鎧掛の松の跡』の石碑によると、鎧を掛けた松が枯れた理由は何か？ (減点3点)

Q-N



(7CP) 智識寺仁王門にある大きな葦草履の鼻緒に、作成者の私が届くか？  
身長は178cmです。ちなみに高校生の頃は、手足が長いので陰では『蜘蛛』と呼ばれていたらしいです(笑) (減点3点)

Q-O



(9CP) 『聖博物館と航空資料館』の説明板に書かれた飛行機の名称の内、それぞれの飛行機の側にある説明板にある名称と違っているのは何か？ (減点3点)

Q-P



(10CP) 『幡知大神社境内のブナ林』の説明板から得られる情報を元に教えてください。  
このブナ林には最大胸高直径と最小直径及び平均直径の3種類のブナしかないと仮定し、最大直径のブナが40本ある場合、平均直径のブナは何本ある事になるか？ 計算途中で小数点以下の端数が出る場合は、四捨五入して小数点以下1桁にして計算してください。  
(減点3点)

Q-Q



(FCP) 姥捨駅の松本方面のホームのベンチは、どの様な配慮がされているか？ (減点3点)

Q-R



(FCP) 姥捨駅から眺める事が出来る姥捨の棚田(田毎の月)が日本の棚田百選に選ばれたのはいつか？ 姥捨駅にある説明板のどこかに答えがあります。年月日で教えてください。  
(減点3点)

## クイズ3 ポーナスクイズ

全問正解ならボーナス点5点。

1問でも誤答がある場合は減点5点です。

解かなかった場合は、ボーナス、減点とも無しです。

解く場合は、全てに解答して下さい。無回答がある場合は、誤答と判断します。

BQ-gを除いて、順番に出てきます。

BQ-a



この小さなお地蔵さんに向かって左側手前にある木の種類は何か？

BQ-b



この建物は、何という建物の一部分か？

BQ-c



この火の見櫓は何図にあるか？

BQ-d



この碑は何図にあるか？

BQ-e



隠された文字を答えよ。

BQ-f



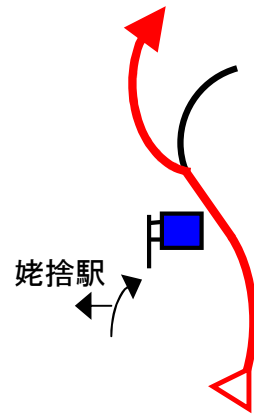
これはスタートから何km地点にあるか？ 四捨五入して整数で答えよ。(±2kmまでOK)

BQ-g

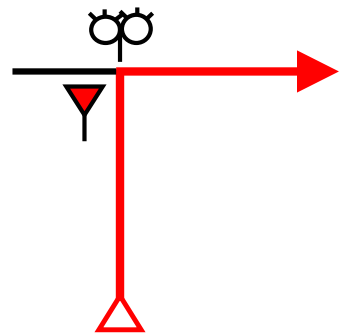


これは、どこにあるか？(スタート、OD、ゴール、各CP)  
画像は一部加工してあります。

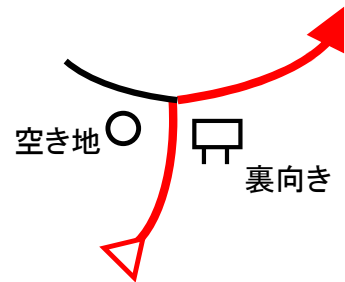
28



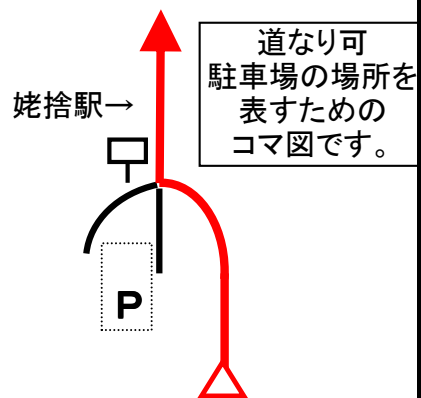
27



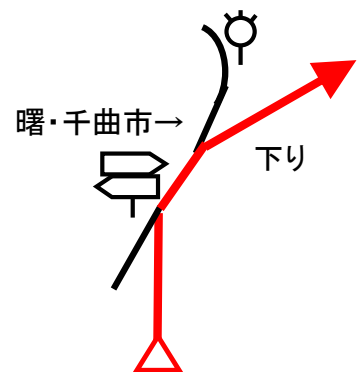
26



29



25



shixpoDR#15 『スイッチバック駅までドライブ』 コマ図-2

