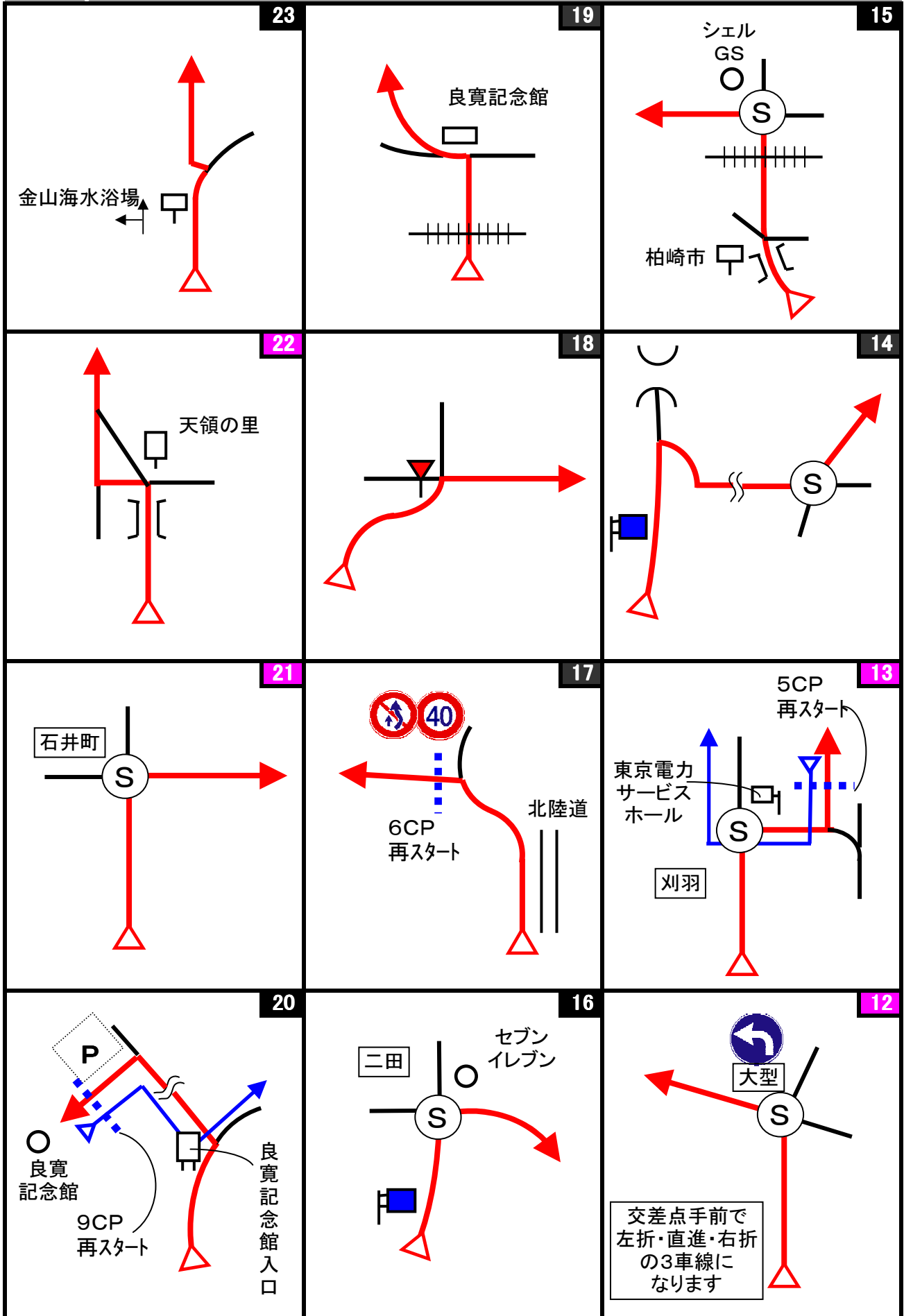
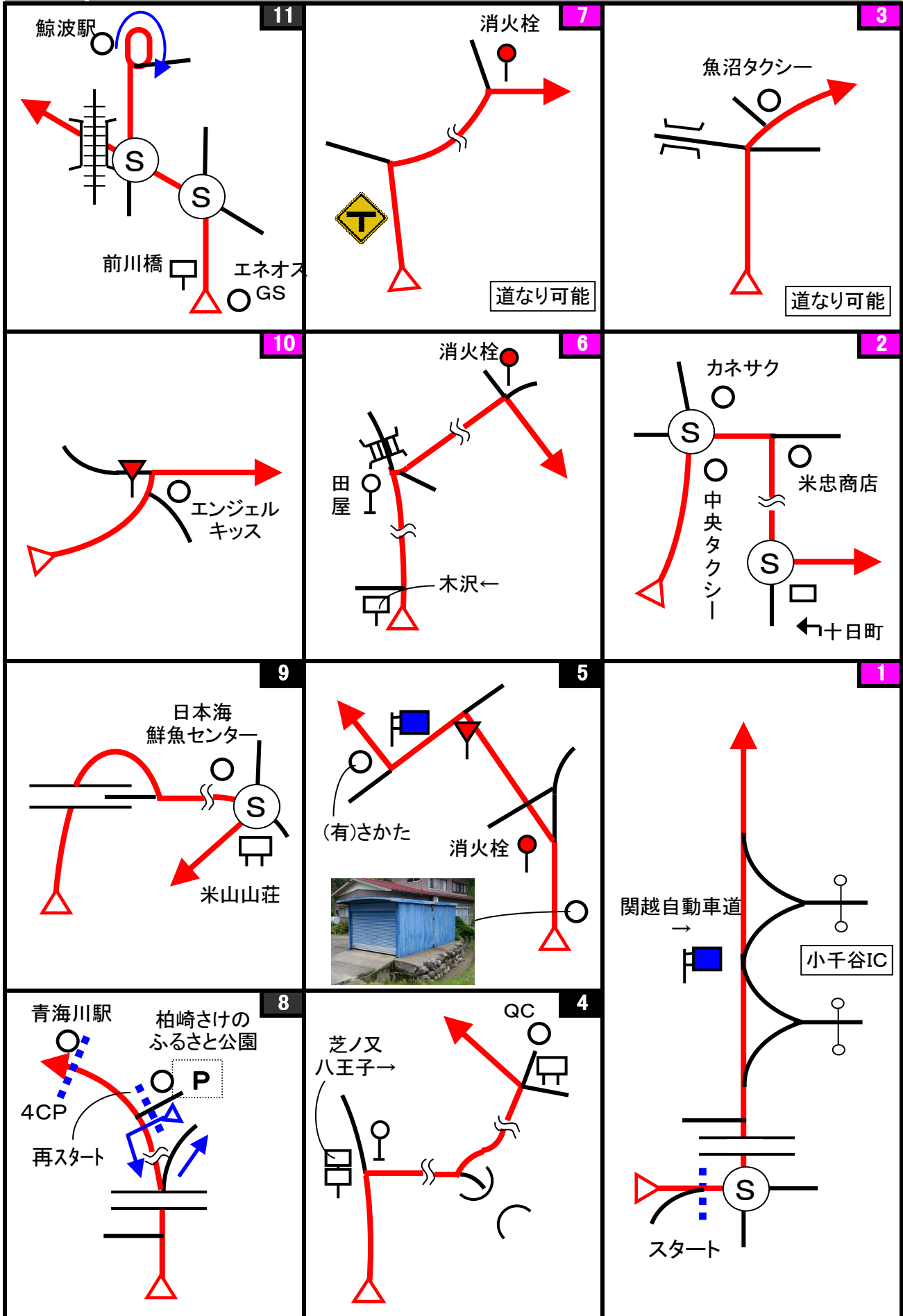











コマ図番号が桃色は第26回PDQMと同じコマ図です。  
 目標物が一部変わっている場合もあります。黒色はPDQMとは違うコマ図です。




コマ図番号が桃色は第26回PDQMと同じコマ図です。  
 目標物が一部変わっている場合もあります。黒色はPDQMとは違うコマ図です。



コマ図番号が桃色は第26回PDQMと同じコマ図です。  
 目標物が一部変わっている場合もあります。黒色はPDQMとは違うコマ図です。

Start	OD	1CP
		
<p>1図 『小千谷IC』近く 「止まれ」標識</p>	<p>2図先 左手の『高さ制限』予告 標識</p> <p>ここまで 5.017 km</p>	<p>3図先 左手の『速度制限』解除 標識</p>
2CP	3CP	4CP-in
		
<p>4図先 左手の市境標識</p>	<p>6図先 左手の『冬期間通行止』 標識</p>	<p>8図 『青海川駅』 跨線橋の脚 の手前角</p>
4CP-out	5CP	6CP
		
<p>8図 『柏崎さけのふるさと公 園』出口 左手の電柱</p>	<p>13図 『東京電力サービスホー ル』 駐車場案内標識</p>	<p>17図 『西山林道』入口 左手の木</p>

7CP



17図先 『西山林道』  
右手のフェンスの手前角

8CP



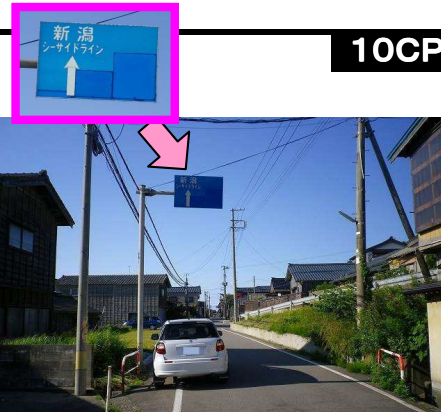
17図先 『西山林道』出口  
右手の裏向き案内板

9CP



20図 『良寛記念館』入口  
右手の案内標柱

10CP




23図先 左手の案内標識

11CP



27図 『弥彦神社』駐車場前  
左手の駐車場案内看板

FCP



28図先 『弥彦山スカイライン』  
山頂駐車場前 路側帯の「視線  
誘導標(デリネーター)」

shixpoDR#16 『第26回PDQM完結ドライブ+旬なモノ』 Quiz-1

クイズ1(距離計測)

スタートからゴールまでの各CP間の距離を計測して下さい。

- ◇エンジョイクラス: 10mの位は四捨五入して、100m単位で答えて下さい。  
(0. 1kmの誤差で減点1点)
- ◇ダンガンクラス: 1mの位は四捨五入して、10m単位で答えて下さい。  
(0. 01kmの誤差で減点1)

クイズ2

Q-A




(OD)のすぐ先は、路肩が広がっているが、何のためのスペースと思われるか? 作成者と同じ答えを正解とする。(減点3点)

Q-B



(4図)楽器を演奏している人のモニュメントはいくつあるか? (減点3点)

Q-C



④八王子のお堂。この奥に子抱き石仏があるが、何体あるのだろうか?

(4図出口)八王子地藏堂には、マリア地蔵は何体あるか? (減点3点)

Q-D



(2CP)「開道之碑」の「開道の由来」に出てくる参議院議員は誰か? (減点3点)

Q-E



(3CP)3CPの先の冬期通行止めは、いつからいつまでか? (減点3点)

Q-F



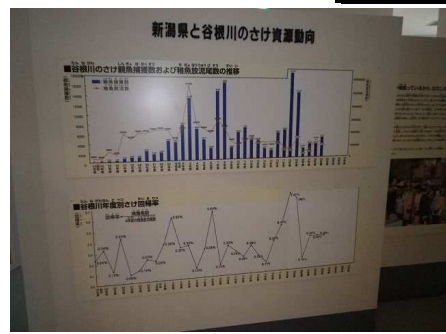
(7図)現在「特別養護老人ホーム・たんねの里」がある場所には、以前何学校があったか? (減点3点)

Q-G



(4CP)青海川駅の跨線橋を施工した業者は? (減点3点)

Q-H



(4CP)柏崎さけのふるさと公園の展示館にある「新潟県と谷根川のさけ資源動向」によると、平成3年度のさけ回帰率は何%か? 小数点以下3桁まで答えよ。(減点3点)

Q-I



(5CP)東京電力サービスホールの受付から展示館につながる廊下には、ここを訪れた芸能人の写真と色紙が飾ってあるが、平成22年1月26日に訪れているのは誰か? (減点3点)

Q-J



(5CP)東京電力サービスホールの展示館の3Fにある「自然界にある放射線・放射能」の展示では、『ベータちゃん』と名付けられた放射線検出器で、自然界にあるものの放射線量を測る事が出来るが、『ベータちゃん』のメータを振り切る放射線量が出ているものは何か？ (減点3点)

Q-K

(5CP)あなたは柏崎刈羽原発の再稼働についてどう思いますか？多数意見を正解とします。

- 1)再稼働せずそのまま廃炉にする
- 2)再稼働させ寿命まで稼働させる
- 3)柏崎刈羽原発に限らず、原発の再稼働をの可否(要否)を国民投票で決める

(減点1点)

Q-L




(16図先)約600m先右手にあるこの家の家人と関係があるクイズはどれか？ このクイズを除く。(減点3点)

Q-M



(8CP)「中部北陸自然歩道コース案内」のA-9コースの①から⑤までの距離は、11図の鯨波駅前にあった「中部北陸自然歩道コース案内」のA10コースの①から⑦までの距離より何km長い？ (減点3点)

Q-N



(9CP)良寛記念館にあり、第26回PDQMのクイズにもなっているこれは、元々何処にあったものか？ (減点3点)

Q-O



(9CP)『出雲崎観光ガイドマップ』には、無料駐車場のマークはいくつあるか？ (減点1点/誤差1 最大3点)

Q-P



(21図先)良寛生誕地(橋屋跡)に建つ「良寛堂」は良寛が生まれてから何年後に建立されたか？月は無視し、次の年を1年後と教えてください。(減点3点)

Q-Q



(11CP)弥彦神社参道手水舎前にあるこれを考案した人は誰か？ (減点3点)

Q-R



(FCP)の少し先にある駐車スペースにある「国上山・弥彦山・多宝山縦走路案内図」に標高が書かれた山で、一番標高が高い山は何山か？ (減点3点)

クイズ3 ポーナスクイズ

BQ-aからBQ-gは、全問正解ならボーナス点5点。  
 1問でも誤答がある場合は減点5点です。  
 解かなかった場合は、ボーナス、減点とも無しです。  
 解く場合は、全てに解答して下さい。無回答がある場合は、誤答と判断します。

**BQ-zは、正解数に応じてボーナス点を与えます。**

BQ-a



この鯉は何図にあるか？

BQ-b




このライオン(レオ?)は、何の上にいるか？

BQ-c



第26回PDQMのこの写真に写っている導水管(橋)の名称は何か？

BQ-d



これは何の位置を表しているか？

BQ-e



この施設を管轄している省庁は？

BQ-f



このトンネルの名前は何か？

BQ-g



この外灯がある施設名は？

BQ-z

作成者は今回のコースに、「今旬なモノ(物、者、事)」として、4つのモノをCPやクイズに設定したが、それは何か？

作成者の想定と同じモノ、作成者が想定していないが作成者が納得したモノ、一つにつきボーナス点0.5点。(最大2点)