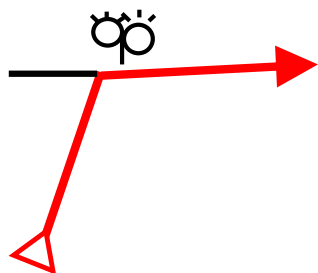
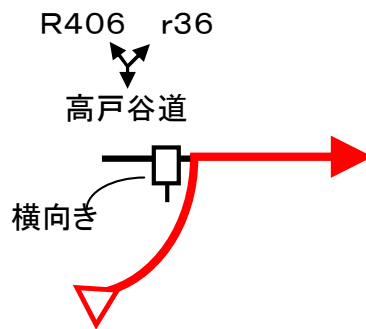


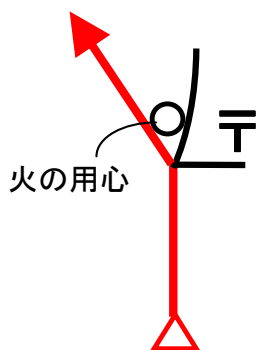
31



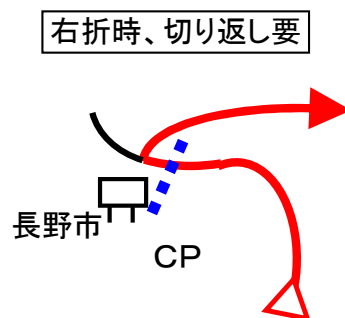
27



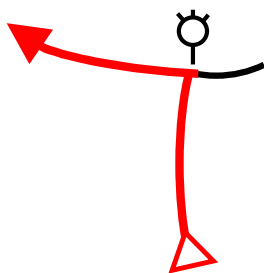
30



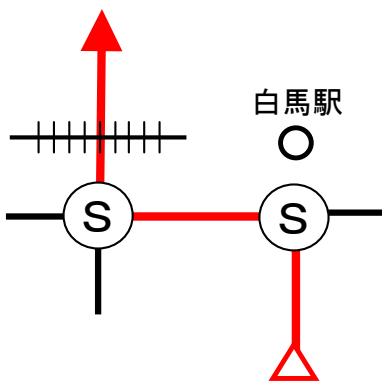
26



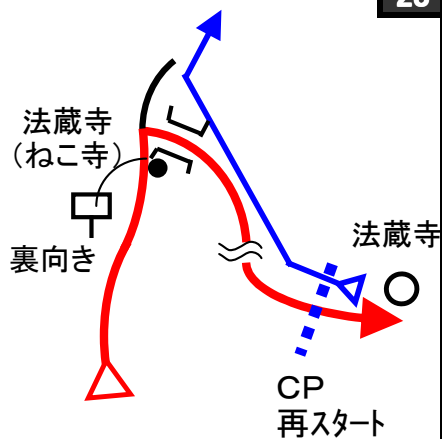
29



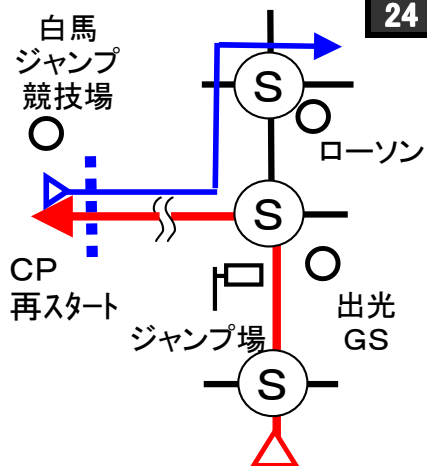
25

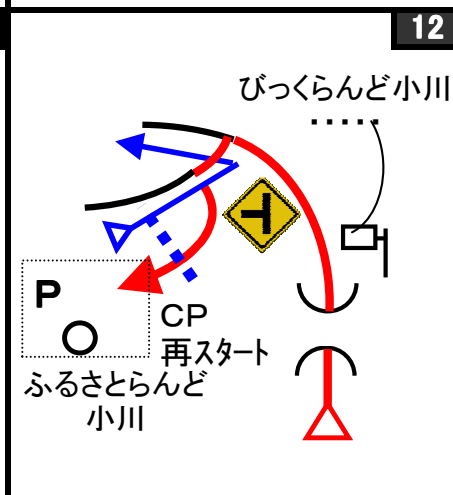

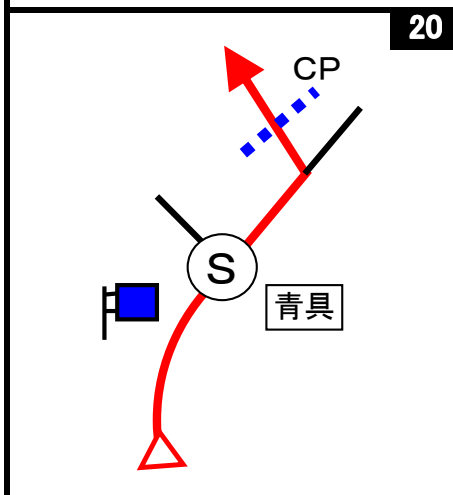

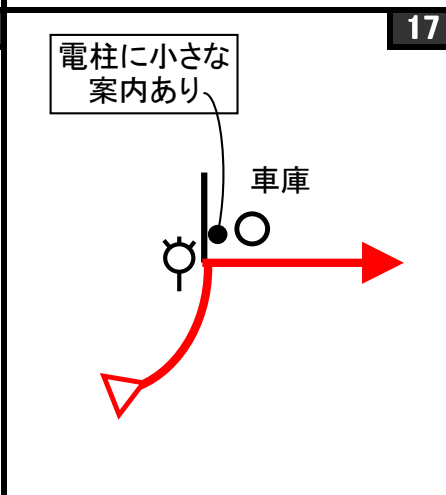
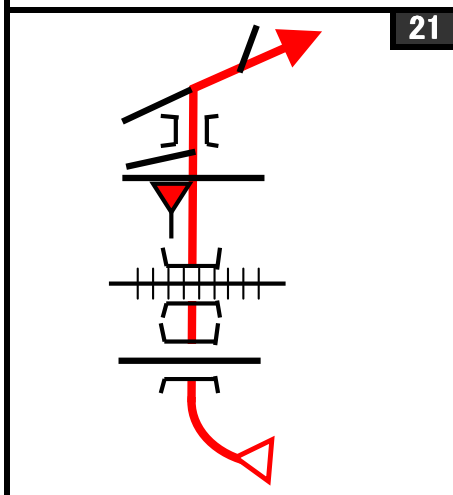
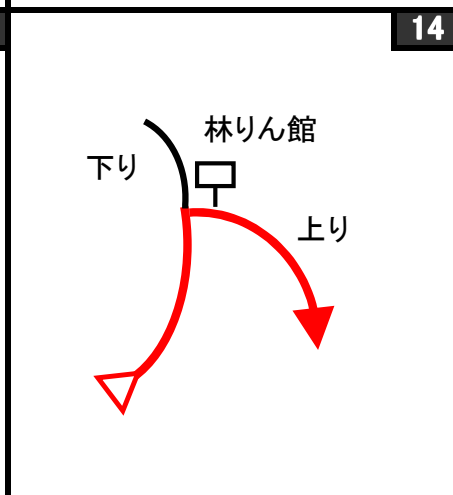
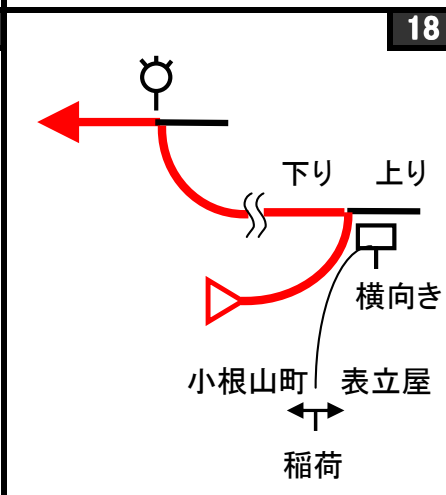
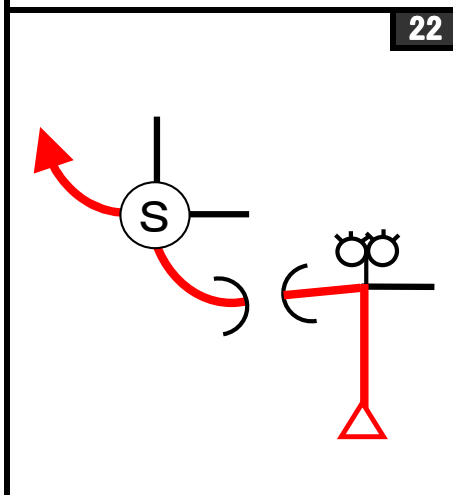
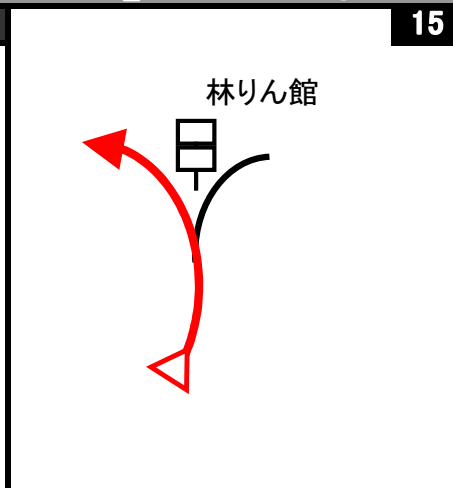
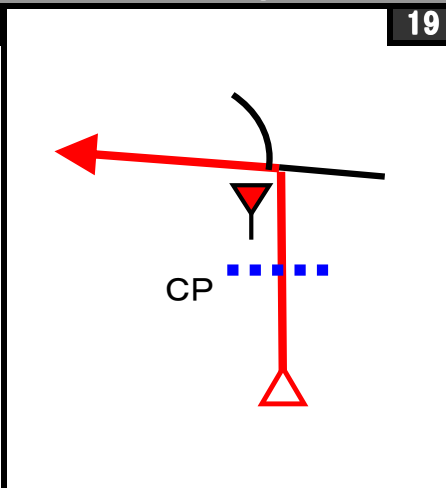
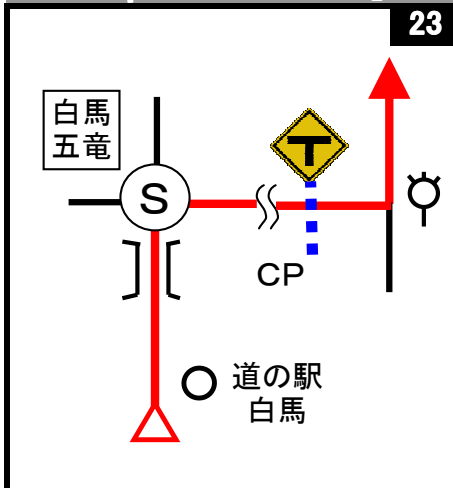


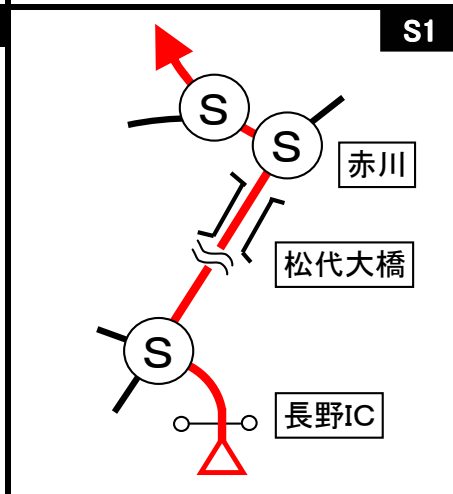
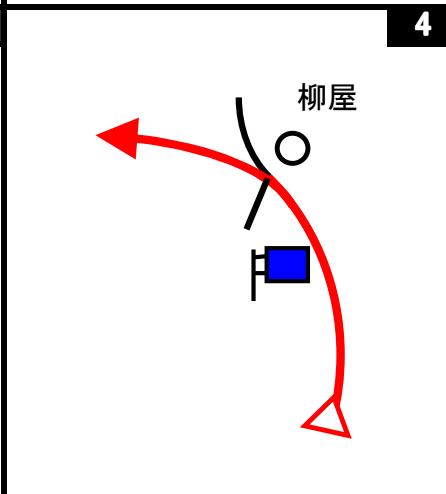
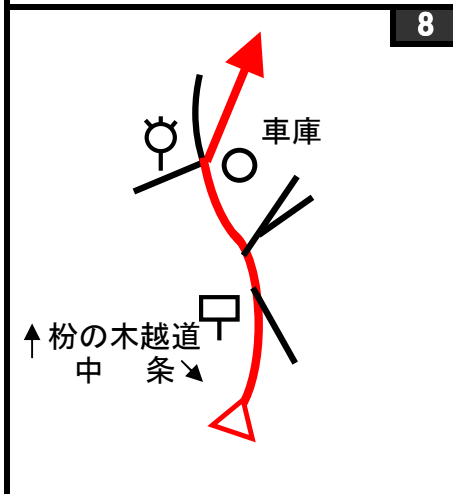
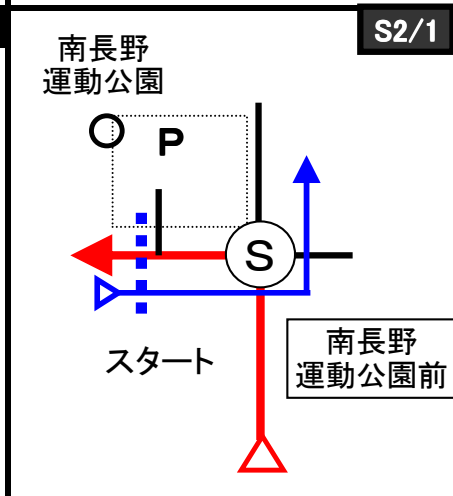
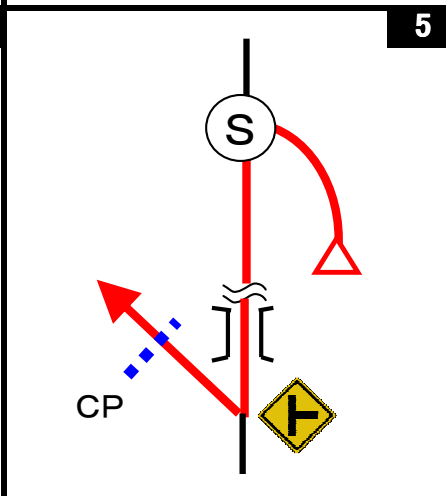
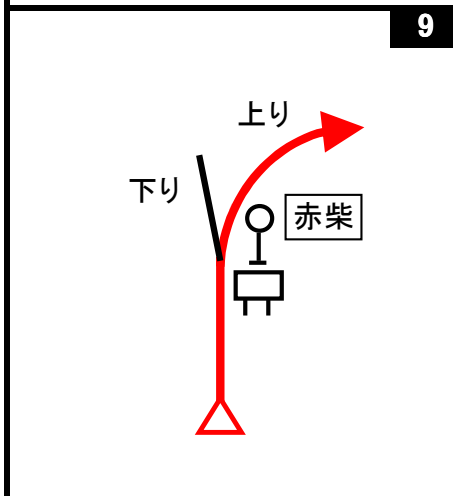
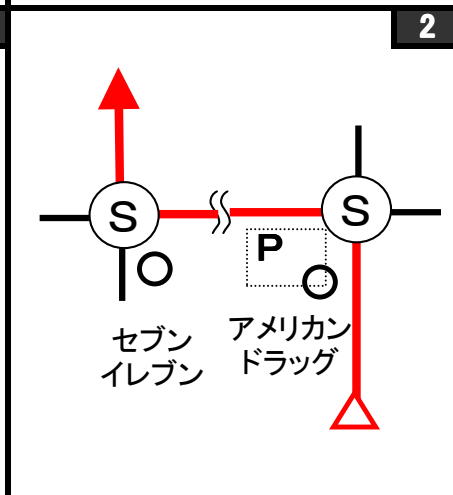
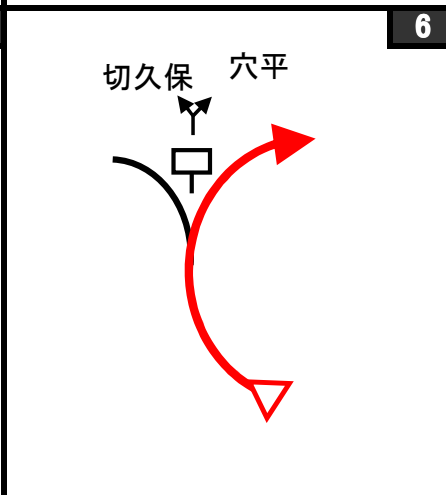
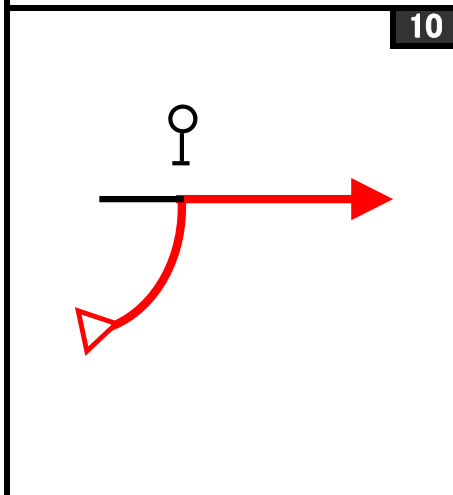
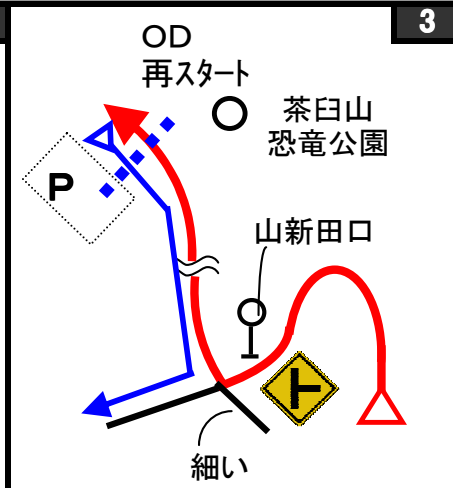
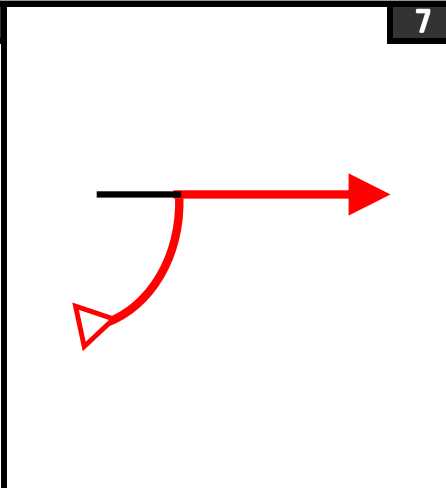
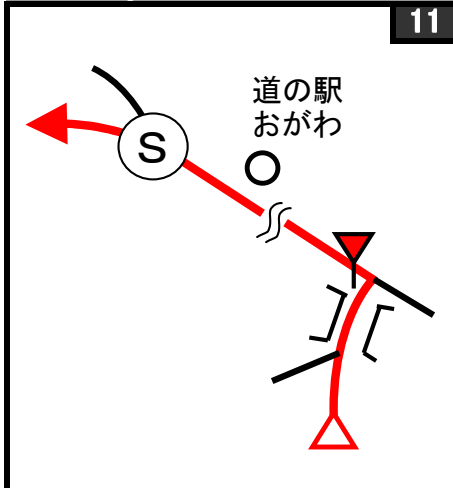
28



24







クイズ1(距離計測)

スタートからゴールまでの各CP間の距離を計測して下さい。

◇エンジョイクラス: 10mの位は四捨五入して、100m単位で答えて下さい。

(0. 1kmの誤差で減点1点)

◇ダンガンクラス: 1mの位は四捨五入して、10m単位で答えて下さい。

(0. 01kmの誤差で減点1)

クイズ2

Q-A



(スタート)南長野運動公園にある「第28回長野市野外彫刻賞受賞作品『連』」には何人の人が表現されているか?(減点3点)

Q-B



(スタート)南長野運動公園の周囲は何mあるか? 写真の場所とスタート地点周辺を確認して下さい。(減点3点)

Q-C



(OD)「茶臼山動物園・植物園・恐竜公園案内図」には、動物の写真はいくつあるか?(減点3点)

Q-D



(OD)「茶臼山恐竜公園」の「三疊紀エリア」ある「童謡のひろば」の「あの子はたあれ」の石碑の場所で聞ける3曲の童謡の内、演奏時間が最も長いのはどれか?(減点3点)

Q-E



(4図先)にある「涌池」は、何の時の崩壊区域にあるか?(減点3点)

Q-F



(2CP)の近くにあるバス停「水篠橋」に、土日、祝休日、お盆、年末年始を除いて、毎日来るバスは、一日何本あるか?(減点3点)

Q-G



(7図先)にある柳沢分校跡の「柳沢分校沿革概要」によると、柳沢分校は何年間の歴史に幕を閉じたか? 学校の年度で考えてください。また閉校になった年は石碑から得られる情報で推測してください。(減点3点)

Q-H



(3CP)「ふるさとらんど小川」の中にある「富永一朗おがわ漫画廊」にあるこの漫画のタイトルは?(減点3点)

Q-I



(3CP)「ふるさとらんど小川」の側にある「旧上水電気発電所資料館」の前にある「水圧管路」は当時使用されていた一部であるが、何%にあたるか? 四捨五入して整数で答えよ。(減点3点)

Q-J



(15図先)にある「立屋の桜・番所の桜 案内図」に『桜と北アルプスが見えます』紹介されている場所は、何という場所か? (減点3点)

Q-K



(20図先)にある「丸切沢の砂防工事」に紹介されているえん堤の内、クイズ3のBQ-bのえん堤と同じ竣工年のものは何号えん堤か? (減点3点)

Q-L



(7CP)白馬ジャンプ競技場のリフトのこの部分の用途は何か? 従業員に聞かずに考えてください! 作成者と同じ答えを正解とします。《ヒント》このリフトは誰を運ぶものか? (減点3点)

※Q-L、M、Nは、白馬ジャンプ競技場で大会が行われている日は解けませんので、参加日にご注意ください!

Q-M



(7CP)白馬ジャンプ競技場のスタートタワーの屋外階段は、ある工夫がされている。それは何か? またその理由(目的)も答えよ。作成者と同じ答えを正解とします。(減点3点)

Q-N



(7CP)白馬ジャンプ競技場のスタートタワーのラージヒルスタート地点への入口にあるこの表示に書かれている文字を答えよ。(減点3点)

Q-O



(27図先)にある『高戸谷道』の説明看板によると、馬曲城が崩壊したのは何年か? 元号で答えよ。(減点3点)

Q-P



(9CP)にある「猫塚の由来」によると、当寺に3代に亘り飼われた猫がした奇行な振舞いで姿を晦ました後、その非礼を詫びに訪れた際、どんな姿で訪れたか? (減点3点)

Q-Q



(FCP)から見える北アルプスの山々の説明板にある山の名前の内、Q-Jの近く(林りん館への道)にあった同じような説明板には無かった山の名前は何か? (減点3点)

Q-R



(FCP)にある「ずくだけ明王」が持っている「スコップ」はどのような意味があるか? (減点3点)

クイズ3 ポーナスクイズ

BQ-aからBQ-gは、全問正解ならボーナス点5点。

1問でも誤答がある場合は減点5点です。

解かなかった場合は、ボーナス、減点とも無しです。

解く場合は、全てに解答して下さい。無回答がある場合は、誤答と判断します。

BQ-gを除いて、順番に出てきます。

BQ-a



この石像はどこにあるか? 「〇〇の近く」の様に作成者に判るように答えてください。

BQ-b



この砂防えん堤の高さは何mか?

BQ-c



この火の見(?)は何図先にあるか?

BQ-d



この風景は、あるCPの近くの風景であるが、何CPか?

BQ-e



この庚申塚は、何CPから何kmの場所にあるか? 四捨五入して、小数点以下1桁まで答えよ。(±0.5km OK)

BQ-f



この廃校の当時の学校名は?

BQ-g



これはどこにあるか? 「〇〇の近く」の様に作成者に判るように答えてください。

Start

OD

1CP



1図 『南長野運動公園』
駐車場入口 案内看板

3図 『茶臼山恐竜公園』
左手の駐車場案内標識

4図先 左手の『川中嶋カントリークラブ』看板

路上ですので、速やかにスタートしてください。

ここまで 6.443 km

2CP

3CP

4CP



5図 『水篠橋』 右手の電柱

12図 『ふるさとらんど小川』
左手の外灯

19図 右手の電柱

5CP

6CP

7CP



20図 左手の県道標識

23図 左手の『T型道路交差点あり』標識

24図 『白馬ジャンプ場』前
左手の「OPEN」看板

8CP



26図 左手の『長野市』市境標識

9CP



28図 『法蔵時』入口
右手の木(一番道側に出っ張っている)

FCP



31図先 『アルプス展望広場』
の看板