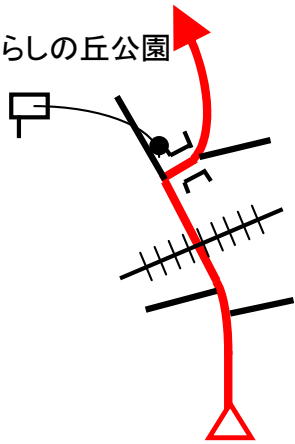


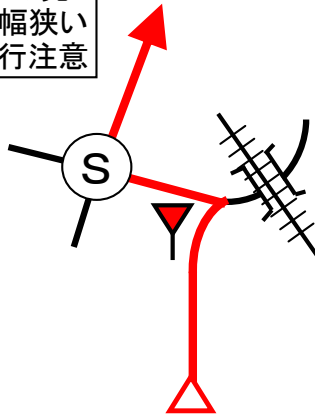
21

見晴らしの丘公園



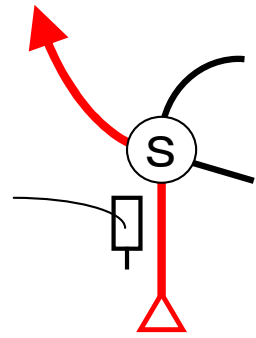
17

この先
道幅狭い
走行注意



13

↑皆野寄居有料道路直進

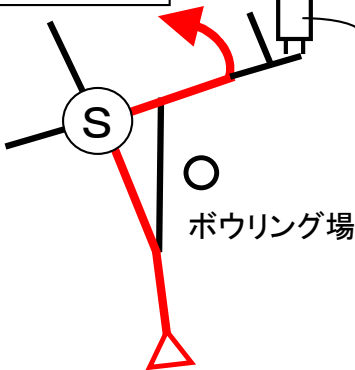


20

青山陸橋(西)

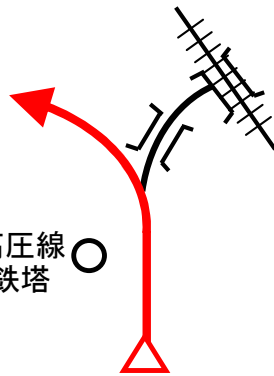
○AKホール

○ボウリング場



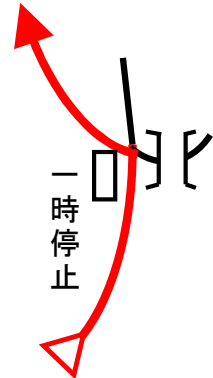
16

○高圧線
鉄塔



12

一時停止



19

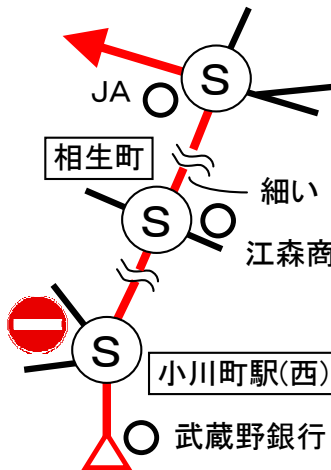
○JA

相生町

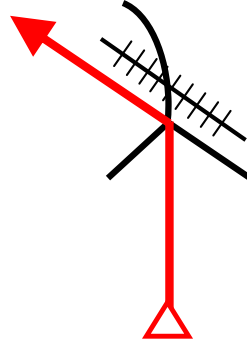
○細い
江森商店

○小川町駅(西)

○武蔵野銀行

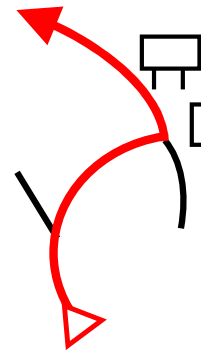


15

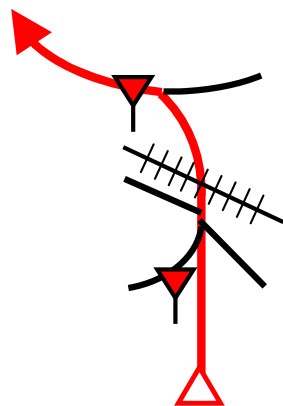


11

五百羅漢



18

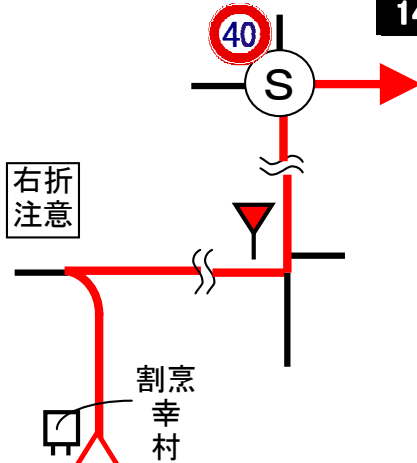


14

右折
注意

40

割烹
幸村

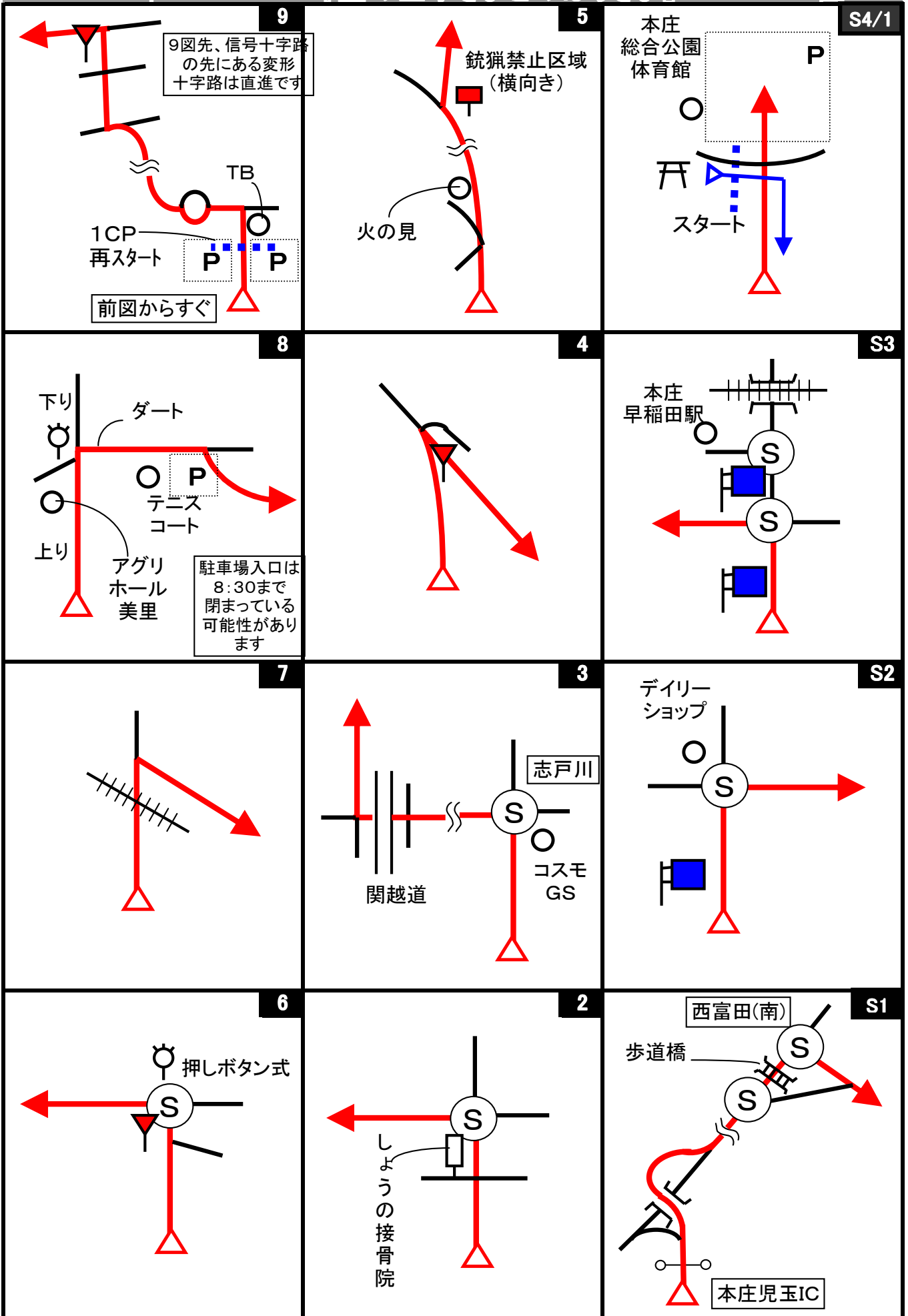


10

この先ダート

下り
円良田
特産センター





Start



1図 『本庄総合運動公園』
第2駐車場脇 左手の杭

OD-in



3図先 『関越道 寄居PA』
右手のフェンスの先端

ここまで 6.011 km

OD-out



3図先 左手の電柱
『株式会社セラム専用駐車場』
の看板あり

1CP



9図 『遺跡の森公園』 右手の
外灯


2CP



11図先 右手の「駐車広場」看
板

道幅が狭いので速やかに再ス
タートしてください。
クイズはありません。

3CP



14図 『鉢形城址』 左手の電
柱
(分電盤が付いていて細い)

4CP



17図先 左手の幅員減少標識
道幅が狭いので速やかに再ス
タートしてください。
クイズはありません。

5CP



22図先 左手の『学童多し』の
看板が付いた電柱

6CP



27図 『嵐山史跡博物館』駐車
場入口 左手の「P」案内看板

速やかに駐車場に移動してくだ
さい。

7CP



35図先 左手の『吉見百穴 駐車場』看板

駐車場出入口のため速やかに駐車場に移動してください。

8CP



39図先 『石田堤史跡公園』駐車場前 右手の「P」案内看板

駐車場に車を停めて、39図にあるクイズを解いてください。

9CP



42図 『さきたま古墳公園』駐車場内 左手の植込み

FCP



45図 『忍城址』駐車場内 左手の外灯

クイズ1(距離計測)

スタートからゴールまでの各CP間の距離を計測して下さい。

- ◇エンジョイクラス: 10mの位は四捨五入して、100m単位で答えて下さい。
(0. 1kmの誤差で減点1点)
- ◇ダンガンクラス : 1mの位は四捨五入して、10m単位で答えて下さい。
(0. 01kmの誤差で減点1)

クイズ2

Q-A

(スタート~ゴール)の間で、何度鉄道と交差(平面、高架、地下)するか?
1カ所、JRと私鉄が並行している箇所があるが、「1」と数える事。
(減点1点/誤差1 最大3点)

Q-B



Q-C

(スタート)東本庄稻荷神社には、木製の赤い鳥居はいくつあるか?
(減点1点/誤差1 最大3点)

(スタート)東本庄稻荷神社の周辺は、何の前身であると伝えられているか?
(減点3点)

Q-D



(7図先)松久駅は何の陰に隠れているか?
(減点3点)

Q-E




(7図先)この碑の裏面には、何がしるされているか?
(減点3点)

Q-F



(11図)『寄居観光案内』に、「沢ガニ」の絵はいくつ描かれているか?
(減点1点/誤差1 最大3点)

Q-G



(3CP)鉢形城跡曲輪配置図にある「(伝)秩父曲輪」の土塁の全長は約何mか?
(減点3点)

Q-H



(17図先)「埼玉県立小川げんきプラザ」の案内板に描かれている記号の内、一番多いのは何の記号でいくつあるか?
(減点1点/誤差1 最大3点)

Q-I



(21図先)「龍谷薬師堂」の本尊の薬師如来の構造は、何の何造か?
(減点3点)

※進行方向右側の広くなったスペースに車を停めてください。

Q-J



(22図先)「カタクリとニリンソウの里」への橋の長さは何mか？ 四捨五入して整数で答えよ。(減点3点)

Q-K




(25図)鎌形八幡神社入口にある「ふるさと歩道案内図」の『丘陵コース』の総距離は、スタートの「本庄総合公園ウォーキングコース図」にある『おすすめコース(5コース)』の総距離より何m長いか短いか？(減点3点)

Q-L



(25図)鎌形八幡神社の鳥居から拝殿への参道の途中にあるこの木は、元々何処の地にあったものか？(減点3点)

Q-M



(6CP) 畠山重忠像は、何処の方向を見ていると思われるか？ 作成者も含めて、一番多い答えを正解とする。(減点3点)

Q-N



(7CP) 松山城跡は本曲輪(本丸)など当時の姿をとどめているが、土地開発などで消滅した施設は何か？ 答えは、本曲輪にある「松山城跡案内図・縄張図」にあり、本曲輪への入口は35図の最後の信号を直進した所です。(減点3点)

Q-O



(8CP) 石田堤史跡公園にある「シンボルモニュメント」の下に立つとタイムワープができるが、「石田三成」の声(某俳優の声)を聞けるのはどんな時か？(減点3点)

Q-P



(9CP) 丸墓山古墳に向かう途中にある「史蹟埼玉村古墳群」の石柱によると、埼玉(さきたま)古墳群を国の史蹟に指定した人は誰か？ 個人名を教えてください。石柱からの得られる情報に加えて、ネット等で調べる必要があります。(減点3点)

Q-Q



(9CP) の丸墓山古墳を円錐と考えた場合、その体積は1CPの「遺跡の森こどもひろば」にあった『木部山2号墳』の体積の何倍か？ 円周率は3で計算し、四捨五入して整数で答えよ。(減点3点)

Q-R



(FCP) 忍城は明治維新後取り壊されたが、それは何年か？ 忍城の御三階櫓周辺にある説明看板の何れかに答えがあります。(減点3点)

クイズ3 ポーナスクイズ

BQ-aからBQ-gは、全問正解ならボーナス点5点。

1問でも誤答がある場合は減点5点です。

解かなかった場合は、ボーナス、減点とも無しです。

解く場合は、全てに解答して下さい。無回答がある場合は、誤答と判断します。

BQ-gを除いて、順番に出きます。

BQ-a



これは何か？

画像は一部加工しています。

BQ-b



この道祖神は何処にあるか？
「〇〇の近く」の様に作成者に判る
ように教えてください。

BQ-c



この鐘を撞くにはいくら掛かるか？

BQ-d



このいちご農園は何図または何図
先から見えるか？

BQ-e



この記念碑は、何の記念か？

BQ-f



このコアラは何図にいるか？

BQ-g



この「塞神(さえのかみ)」のすぐ後
ろにあるのは何と言う施設か？