


Quiz- 1  
クイズ2 Q-A

クイズ1 (距離計測)

スタートからゴールまでの各CP間の距離を計測して下さい。  
1mの位は四捨五入して、10m単位で答えて下さい。  
(0.01kmの誤差で減点1)




スタートから1CPの間に『十字路あり』の標識は、進行方向左側にいくつあるか？ 変形交差点は除く。(減点1点/誤答1本)

Q-B



ODから5図の間に、この看板はいくつあるか？  
(誤答は減点5)

Q-C



1CPにある水車の水を受ける板の数は何枚か？  
(減点1点/誤答1枚)

Q-D



(1CP)群馬県吾妻町の人が短歌大賞を受けたのは、第何回の小野小町文芸賞か？  
(誤答は減点5)

Q-E




(2CP)小田城最後の城代が国替えになった先は、何処か？  
(誤答は減点5)

Q-F



(2CP)この石碑の文字を楷書で書け。  
(誤答は減点5)

Q-G



2CP先右手にある筑波鉄道の常陸小田駅跡には、線路跡に植樹がされている。その中で、『退職記念』で植樹した人は誰か？  
(誤答は減点5)

Q-H



13図先にあるこの石碑によると、明治の初め頃若森部落に存在したものは何か？  
(誤答は減点5)

Q-I



(3CP)がま園にある『がまの油売り口上』の中に出てくる漢数字の中で一番多い数字は何か？例えば、『二十』は、『二』と『十』に分けて考える事。  
(誤答は減点5)

Q-J



(3CP)林道沼田新田酒寄線を長方形と見なした場合、1平方メートル当たりの事業費はいくらか？  
(誤答は減点5)

Q-K




4CPにあるしもつまマップに描かれた豚は、何頭？  
(誤答は減点5)

Q-L



(4CP)ネイチャーセンターは国蝶オオムラサキの形をしているが、その周りに描かれた幼虫(青虫)は何匹か？ (誤答は減点5)

Q-M



6CPのきぬ川ふれあい広場にある3種類のベンチで、一番数が多いのはどのベンチでいくつあるか？ (誤答は減点5)

Q-N



6CP先右手にあるこの石碑に記された事業の受益者は、Q-Hの石碑に記された受益者の何倍か？四捨五入して小数点以下1桁まで答えよ。Q-Hの受益者は、表記と名前の数が違うので名前の数で計算せよ。(誤答は減点5)

Q-O



(6CP先)結城中学校など3校が行った21世紀記念事業とは、何をどうしたのか？ (誤答は減点5)

Q-P



(ゴール)結城城跡の説明板と聴敏神社にある聴敏神社由来記とは、ある事があった年が違っている。何がどのように違っているか答えよ。(誤答は減点5)

クイズ3 ボーナスクイズ

4問正解ならボーナス点5点。1問でも誤答がある場合は減点5点です。  
解かなかった場合は、ボーナス、減点とも無しです。  
解く場合は、4問全てに解答して下さい。無回答がある場合は、誤答と判断します。

BQ-a



この地藏様の近くにあるバス停の名前は？

BQ-b



この招き猫の近くにあるバス停の名前は？

BQ-c



この蔵と道を挟んで反対側にある会社の名前は？

BQ-d



CPやクイズのある場所から見た筑波山である。出てくる順番に並べよ。