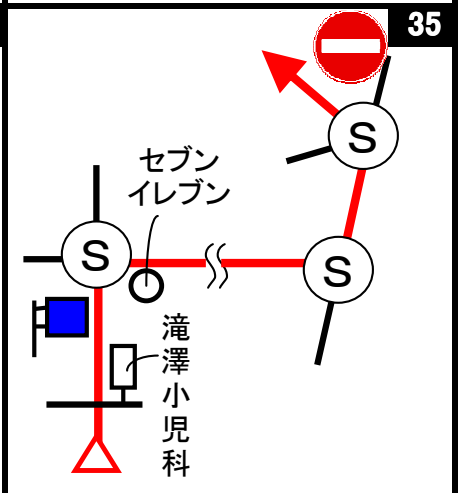
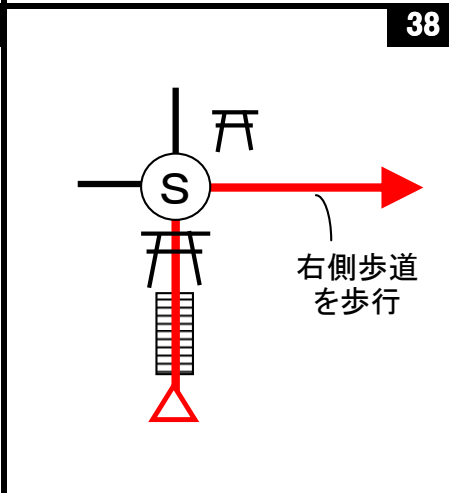
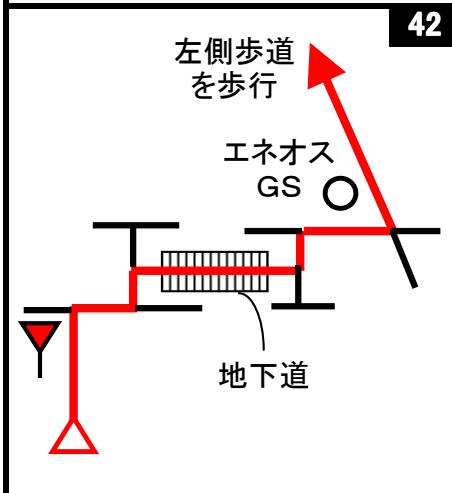
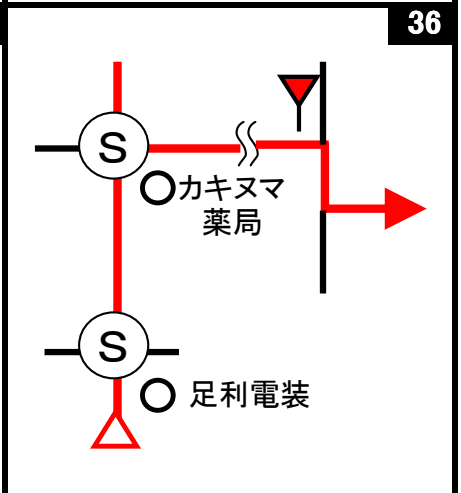
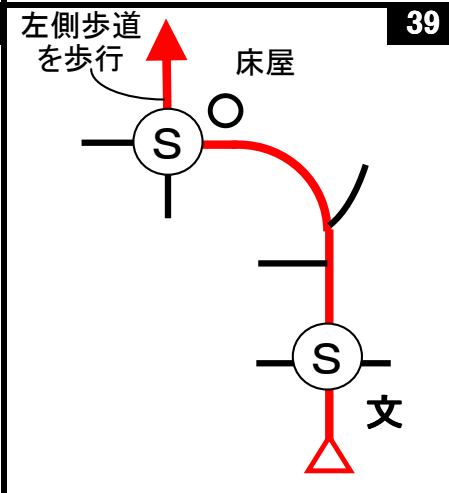
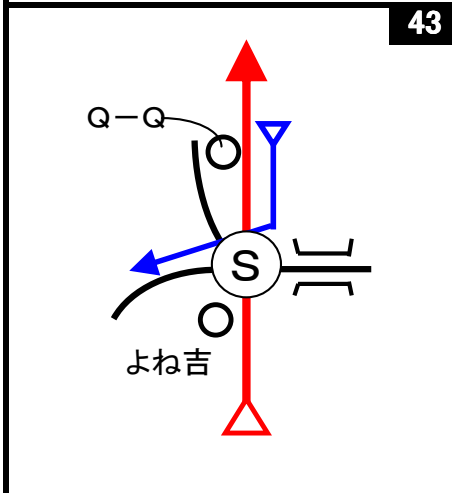
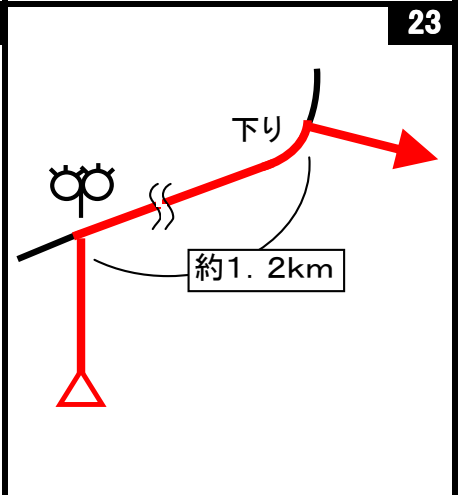
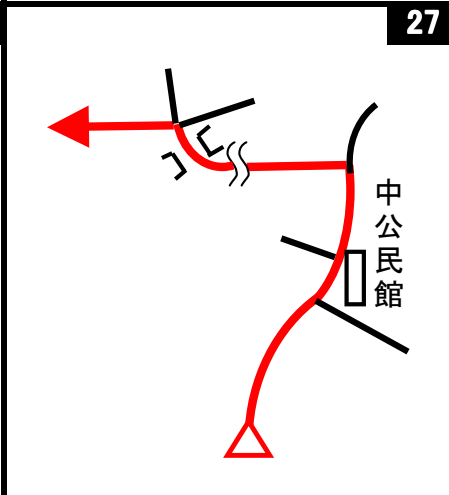
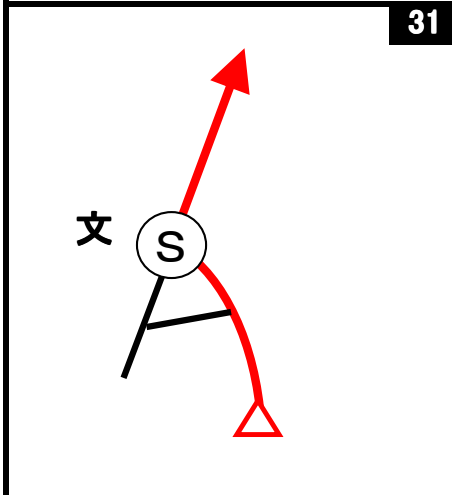
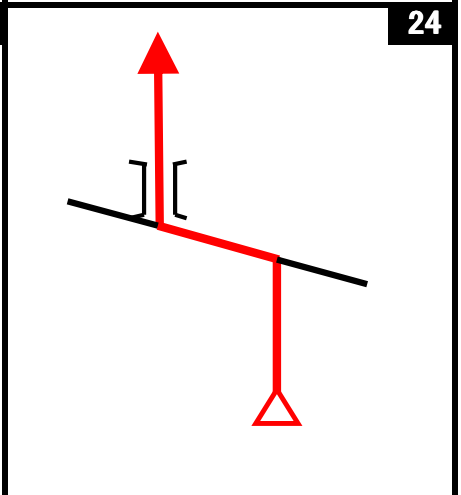
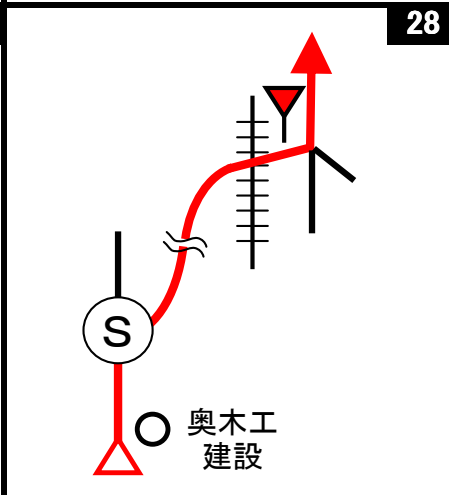
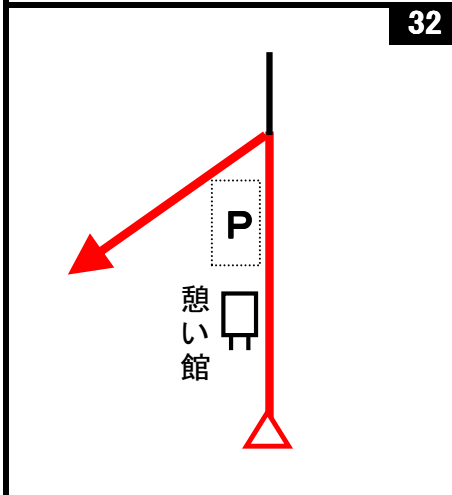
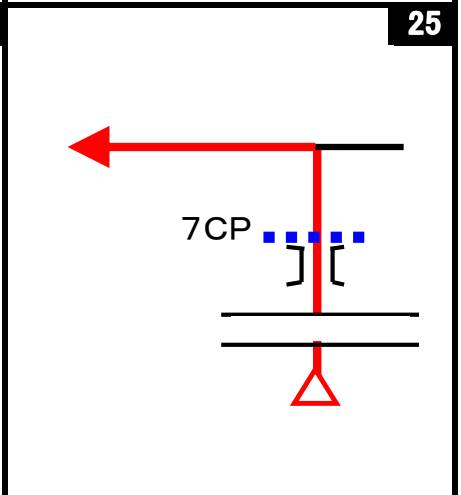
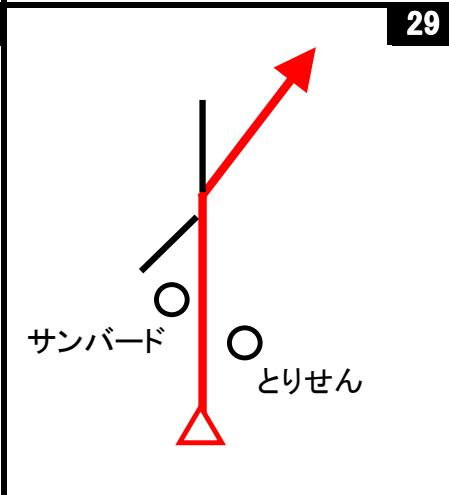
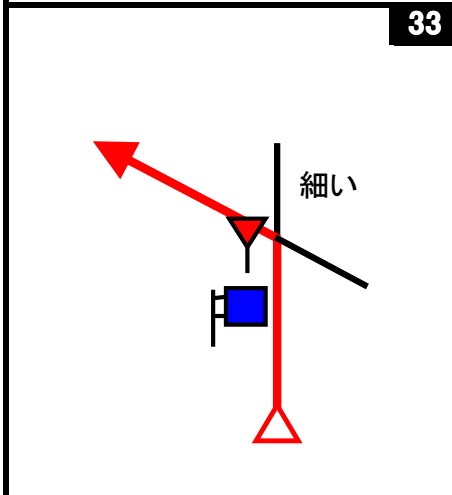
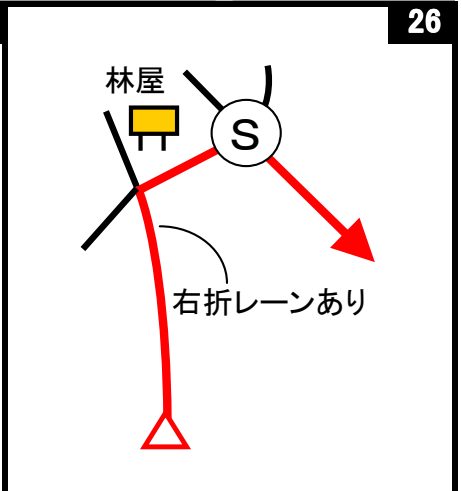
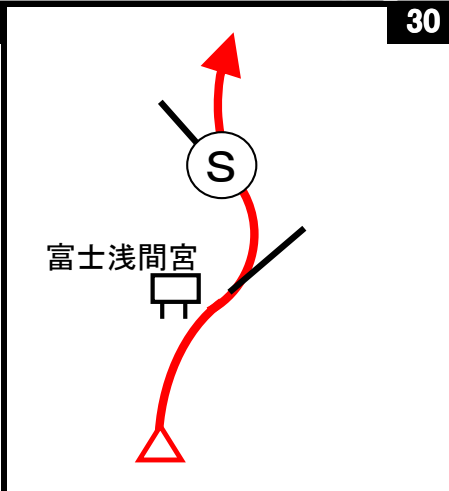
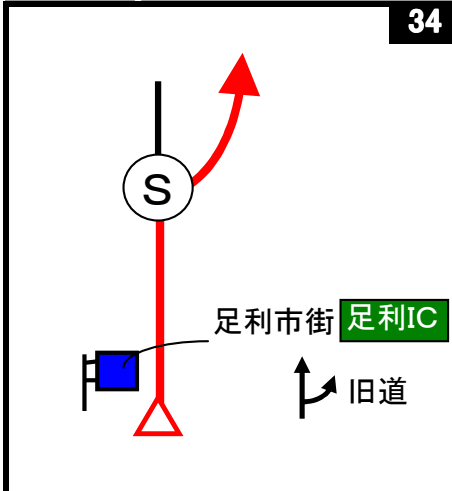
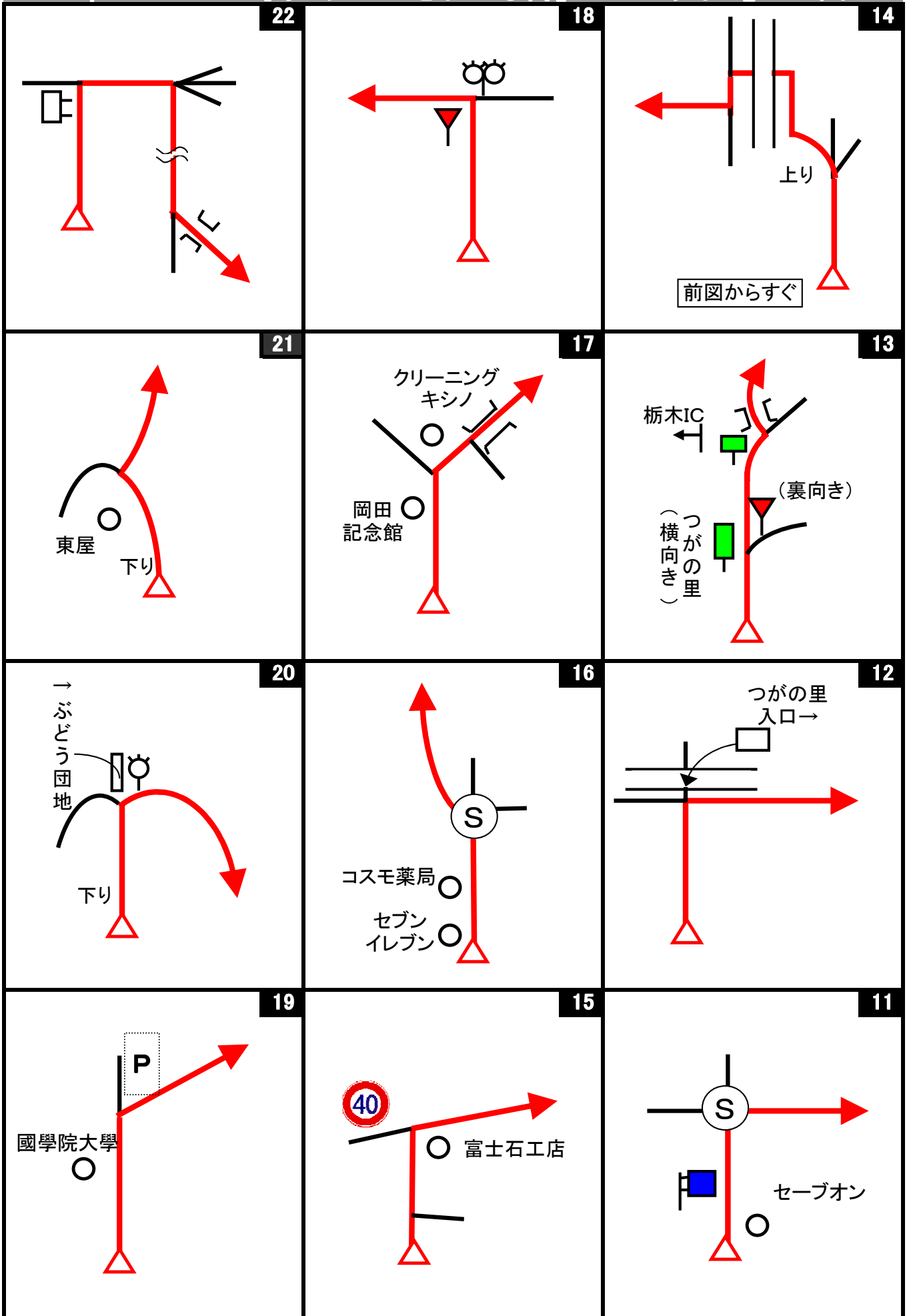


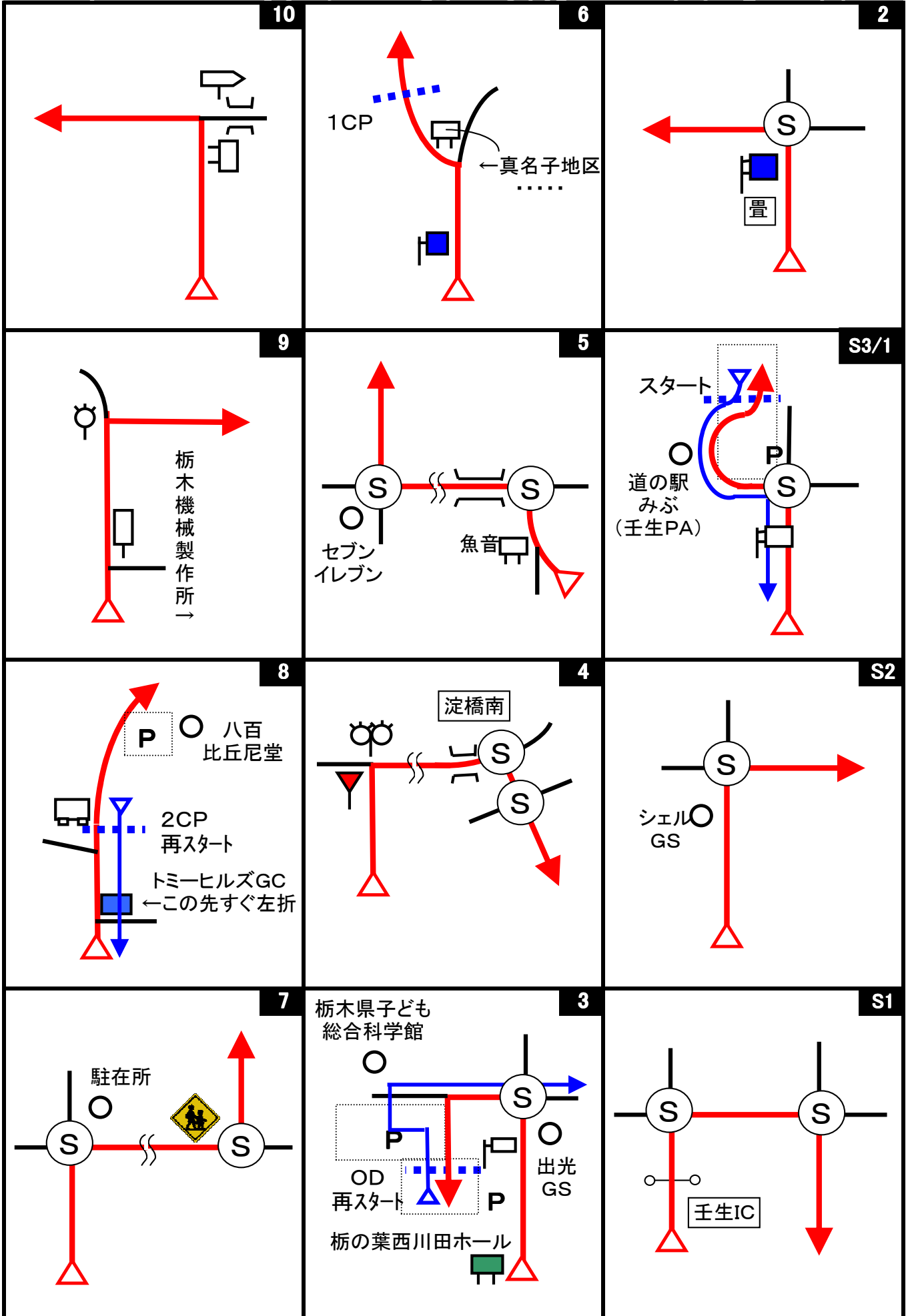
次のコマ図からは、ゴール後クイズポイントに行くためのコマ図で、『歩行』を想定したコマ図です。各クイズポイントには車を停める場所がありませんので、『歩行』での移動をお願いします。コース作成時、クイズポイントを周ってゴール地点に戻るまで約1時間10分掛かりました。







shixpoDR#22 『♪「夕日がきれいな街」へ・・・ドライブ』コマ図-1



Start



1図 『道の駅みぶ』駐車場出口  
左手の外灯

OD



3図 『栃木県子ども総合科学館』  
第2駐車場入口 グレーチング  
ここまで 8.705 km

1CP



6図  
右手のガードレールのポール  
(一番手前)

2CP



8図 『八百比丘尼堂』  
左手の「トミーヒルズGC」右看板横  
再スタートはUターンして同じ場所から  
八百比丘尼堂の駐車場は少し先右手です。

3CP



10図先 左手のポンプ場 手前の低い塀

4CP



14図先  
左手の電柱

5CP



19図先 『大平山』  
「大曲り市営駐車場」看板  
速やかに左手駐車場に移動。

5CP再スタート



19図先 『大平山』  
「大曲り市営駐車場」先のトイレ  
横にある薄い緑色の電柱

6CP



22図先 『清水寺』  
グレーチング 左手に駐車場入口あり



7CP



25図『山中橋』出口  
左側の橋柱先端

8CP



32図先『須花坂トンネル』  
左手の「トンネル内点灯」標識

速やかに左手前にある駐車スペースに移動の事

FCP



36図先『織姫公園』駐車場入口

左手の駐車禁止標識

お疲れ様でした！

shixpoDR#22 『♪「夕日がきれいな街」へ・・・ドライブ』 Quiz-1

クイズ1(距離計測)

スタートからゴールまでの各CP間の距離を計測して下さい。

◇エンジョイクラス: 10mの位は四捨五入して、100m単位で答えて下さい。

(0. 1kmの誤差で減点1点)

◇ダンガンクラス: 1mの位は四捨五入して、10m単位で答えて下さい。

(0. 01kmの誤差で減点1)

クイズ2

Q-A



左横に説明書があります。

(スタート)道の駅みぶの展示休憩室(9:00~19:00)のこの人たちが作っているものの主な用途は何か?  
(減点1点)

Q-B



(スタート)道の駅みぶの情報交流コーナー(9:00~19:00)にある周辺施設のミニチュアで、道の駅みぶを表示しているものは何か?  
(減点1点)

Q-C



(スタート)とちぎわんぱく公園の「わんぱくこうえん ごあんない」には、「ピッピーとピコ」はいくついるか?  
(減点1点)

Q-D



(OD)栃木県子ども総合科学館(9:30~16:30)の日本列島ゾーンにあるこのシルバーの小さな点に一番近い駅名は何か?  
(減点1点)

Q-E



(OD)H-IIロケットの実物大模様の外観で、再現されていない部分はどこか?  
(減点1点)

Q-F



(OD)太陽炉のパラボラの外周の長さは約何mか? 四捨五入して整数で答えよ。  
(減点1点)

Q-G



(2CP)木造八百比丘尼座像の説明から推測すると、八百比丘尼堂があるこの地の表記はどんな表記からどんな表記に変わったか?  
(減点1点)

Q-H



(5CP)「大曲り市営駐車場」にある建設記念碑の建設発起人で、当時の栃木市建設課長の苗字は?  
(減点1点)

Q-I



(21図先)大中寺にある「関東ふれあいの道」の説明板のコース案内(左下の地点と距離を表記した部分)と、5CPの大平山神社にあった説明板のそれを見比べてどう思うか? 表記の正誤を含めて答えよ。  
(減点1点)



Q-J



(21図先)大中寺にある「地藏菩薩半跏像」が大中寺に来るきっかけになった事は何か？  
(減点1点)

Q-K



(6CP)清水寺の「本堂・会館新築記念」の建設費寄付者御芳名に群馬県の人は何人いるか？  
(減点1点)

Q-L



(8CP)にある3本の新旧トンネルの長さを全て加えると何mか？トンネルの前にある説明板から得られる情報で答えよ。但し、昭和トンネルは交通量が多く危険ですので近づかないように。  
(減点1点)

Q-M



(FCP)織姫神社の境内から大通りの鳥居へ降りる階段の手すりの用途を全て答えよ。(減点1点)

Q-N



(39図)床屋の前にある電話ボックスの公衆番号は？  
(減点1点)

Q-O

(39図)ここにQ-Qの歌碑で聞ける曲を歌った人が来たのはいつか？(減点1点)

Q-P



(41図)にある神社の手水舎前から拝殿までの間にある階段の段数は何段か？(減点1点)

※写真は、在りし日の神社です。

Q-Q



(43図)にある歌碑で聞ける曲で、今回のコースのタイトルにもなっている歌詞が出てくるまでの時間(ボタンを押してから)は、2CPの八百比丘尼堂で聞けた「①伝説とおびくに公園」の案内の時間より長いか短いか？  
(減点1点)



クイズ3 ポーナスクイズ

BQ-aからBQ-gは、全問正解ならボーナス点2点。1問でも誤答がある場合は減点2点です。解かなかった場合は、ボーナス、減点とも無しです。

解く場合は、全てに解答して下さい。無回答がある場合は、誤答と判断します。

※ボーナスクイズは、あるキーワードの順番に出てきます

BQ-a

BQ-b



これは何図または何図先にあるか？

それぞれの石碑に記された事業の延長距離(林道や河川)が長い順に並べよ。

BQ-c

BQ-d

BQ-e




この消防士さんに最初に会えるのは、何図または何図先か？

これは何図または何図先にあるか？

この鳥居は、何CPから何kmの地点にあるか？ 四捨五入して小数点以下1ケタまで答えよ(±0.3kmまでOK)

BQ-f

BQ-g



これは、元々何だったか？

これはどこにあるか？ 作成者に判るように答えてください。