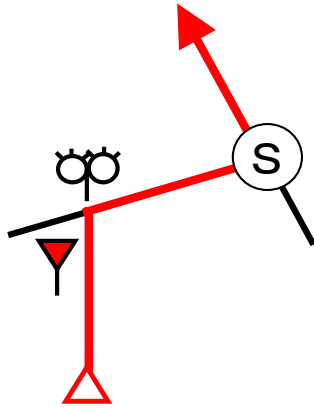
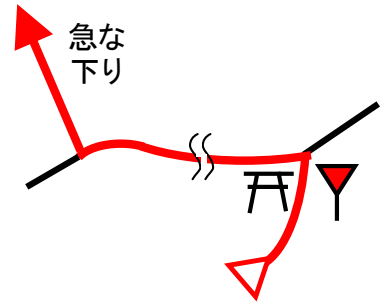


59

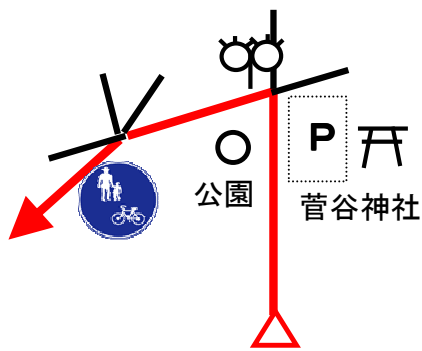


55

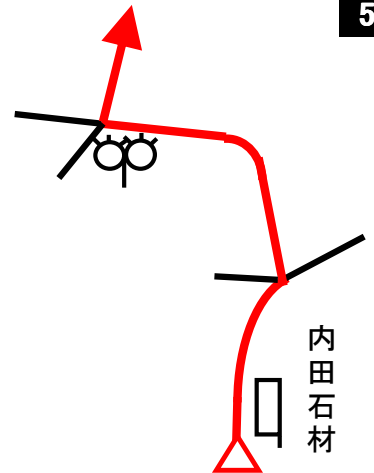


51

58

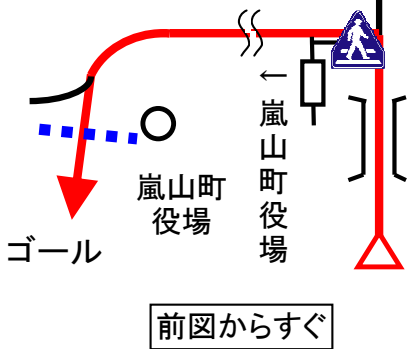


54

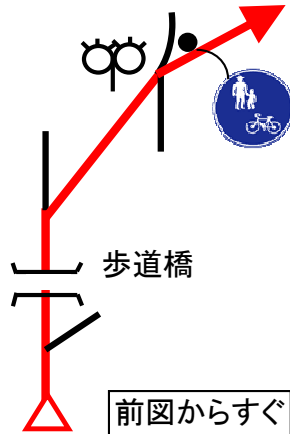


50

57

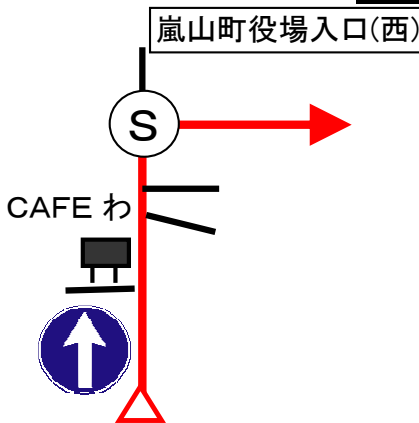


53

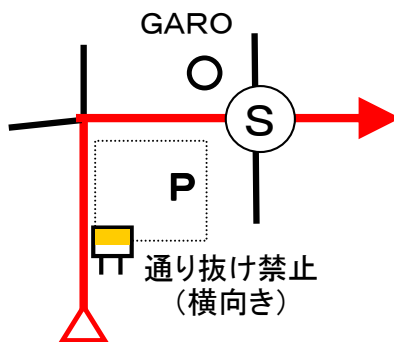


49

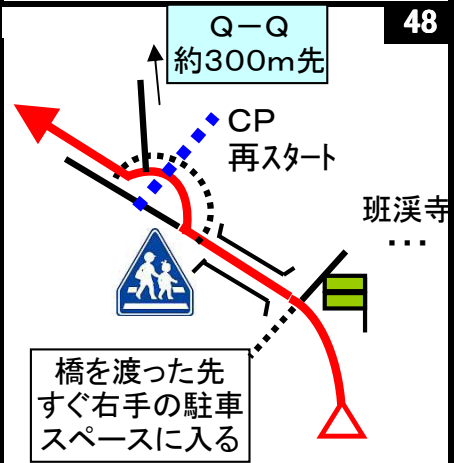
56

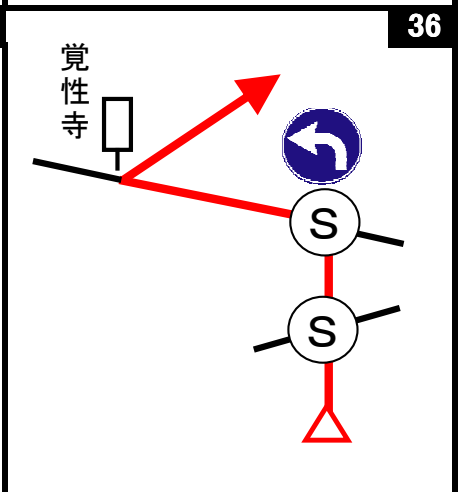
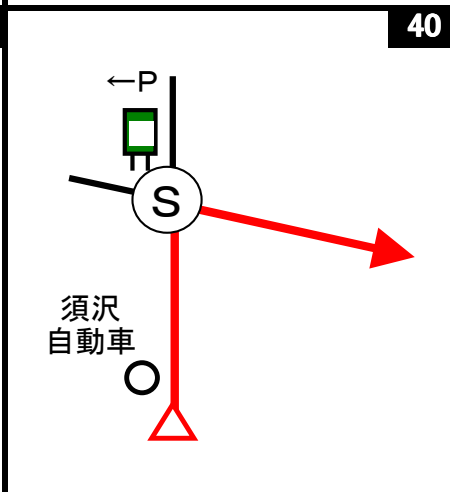
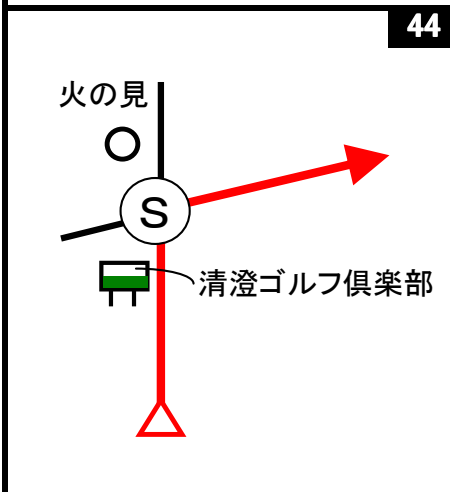
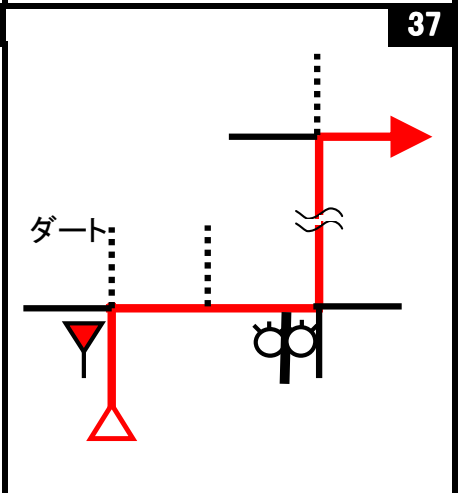
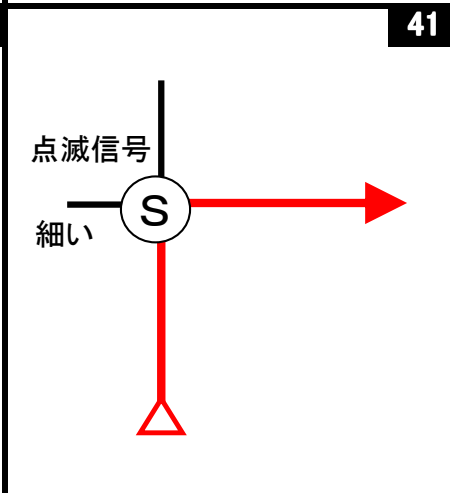
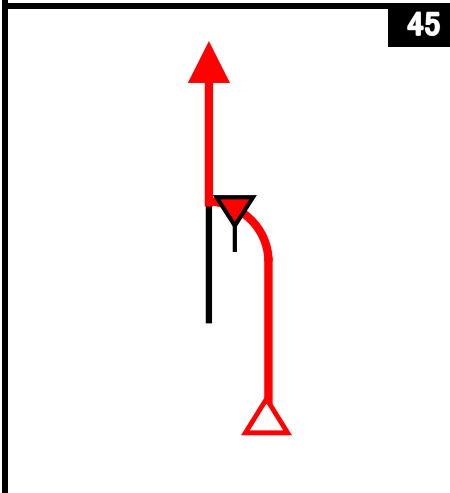
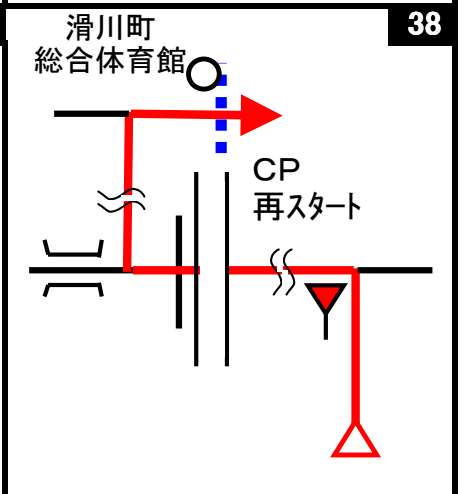
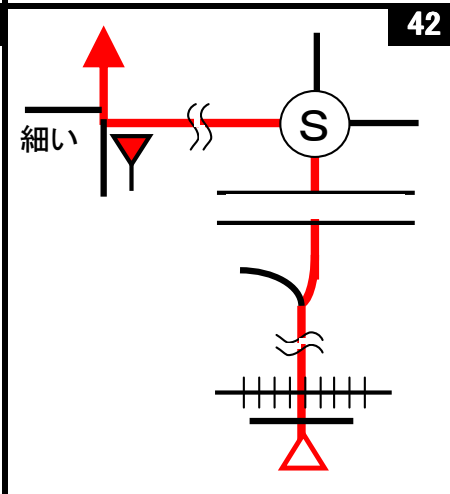
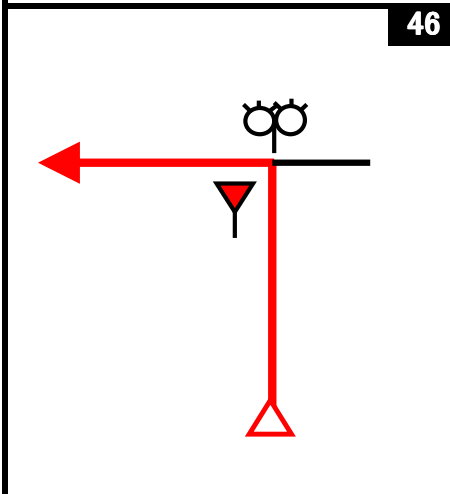
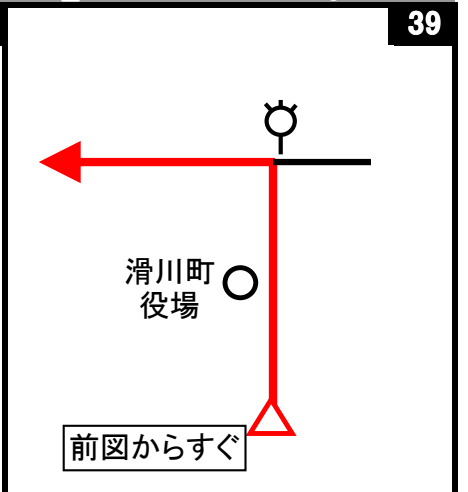
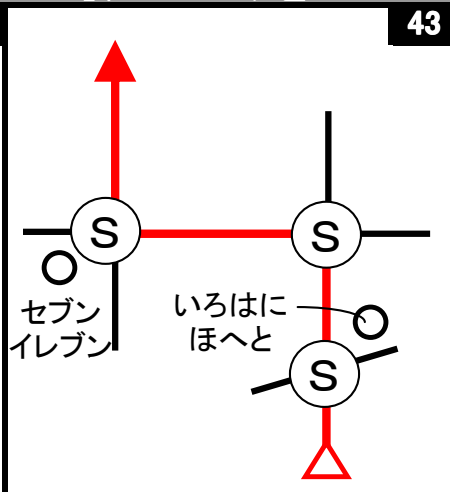
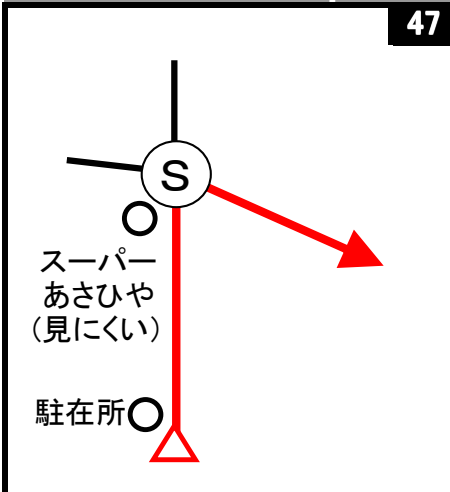


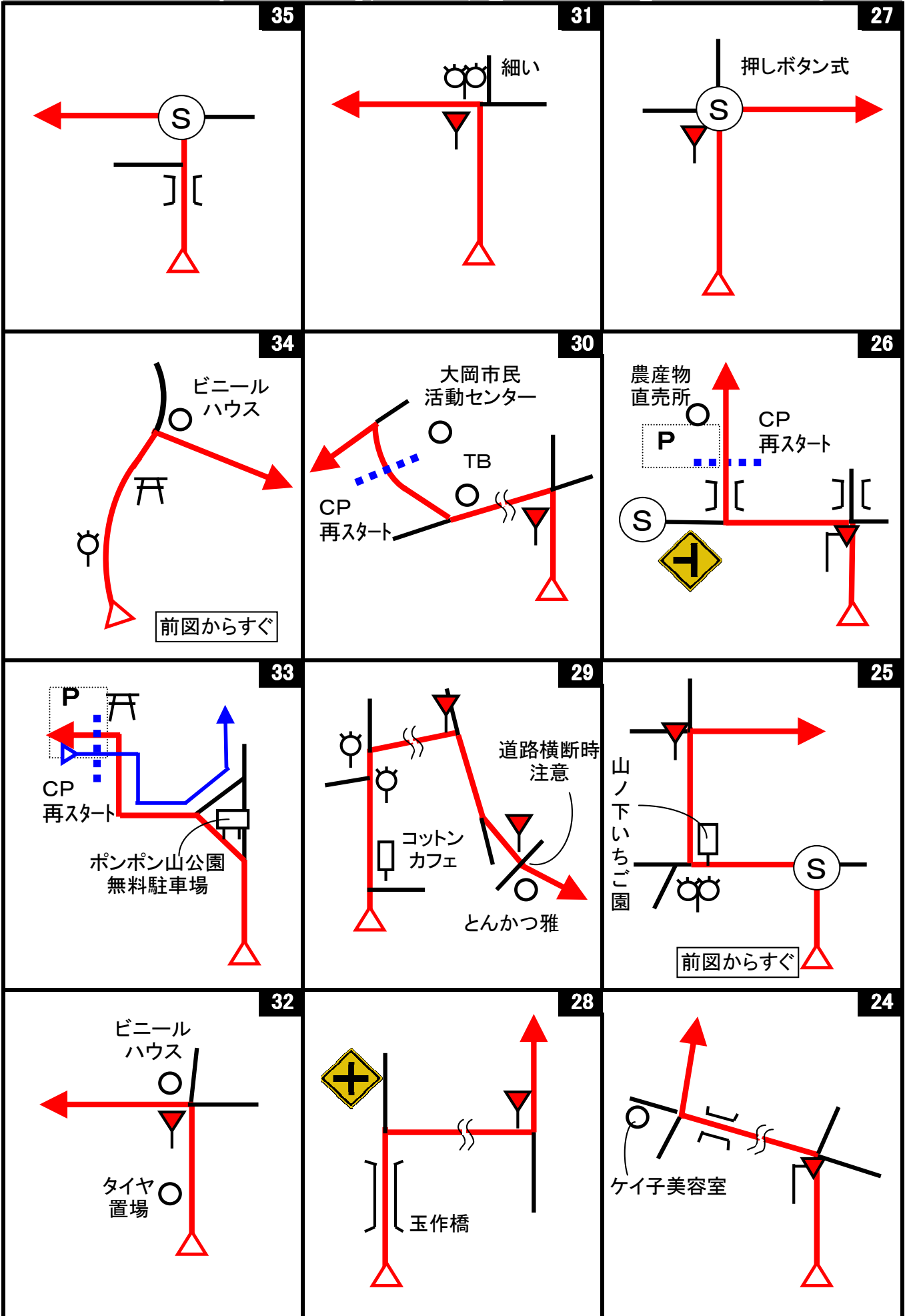
52

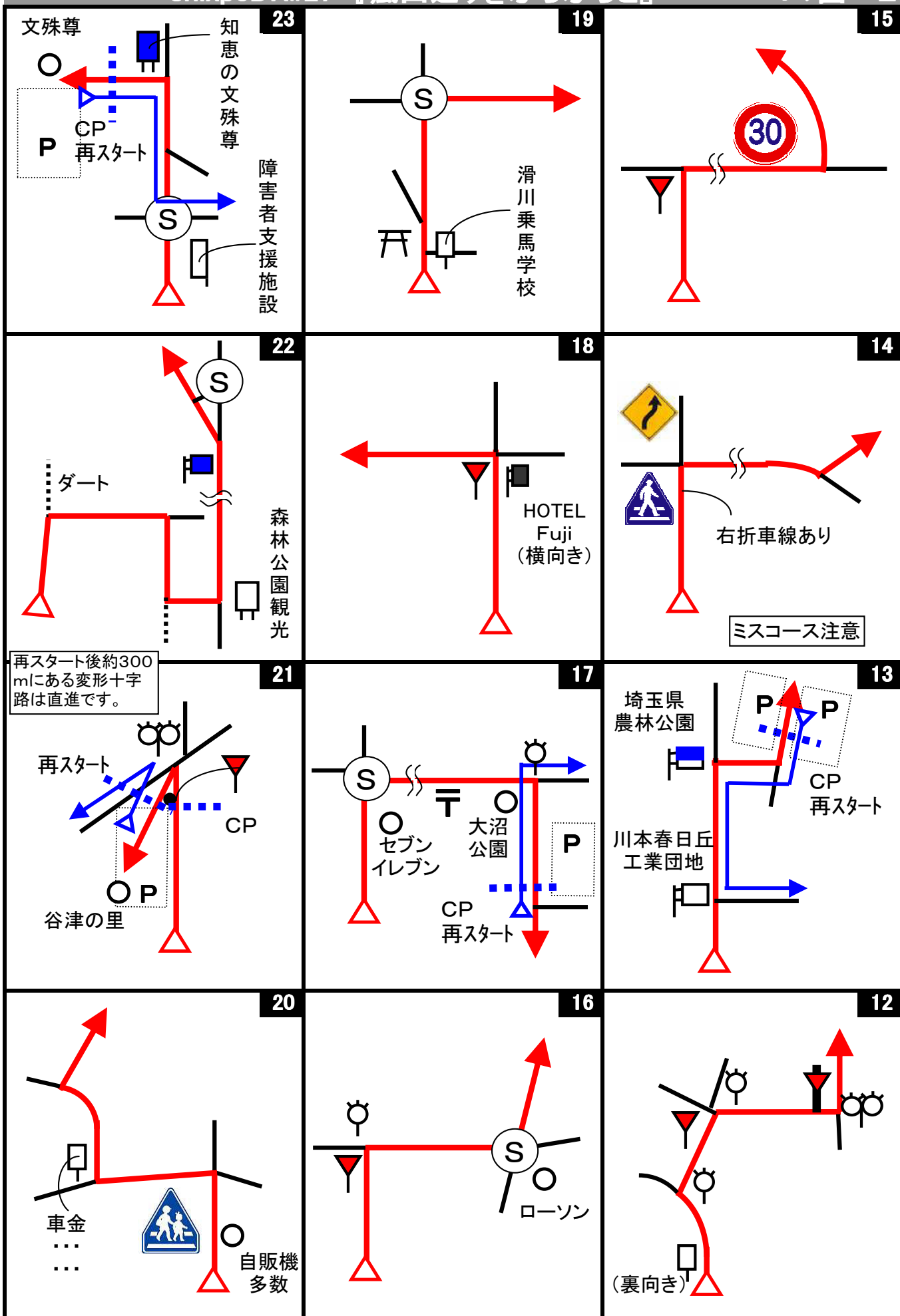


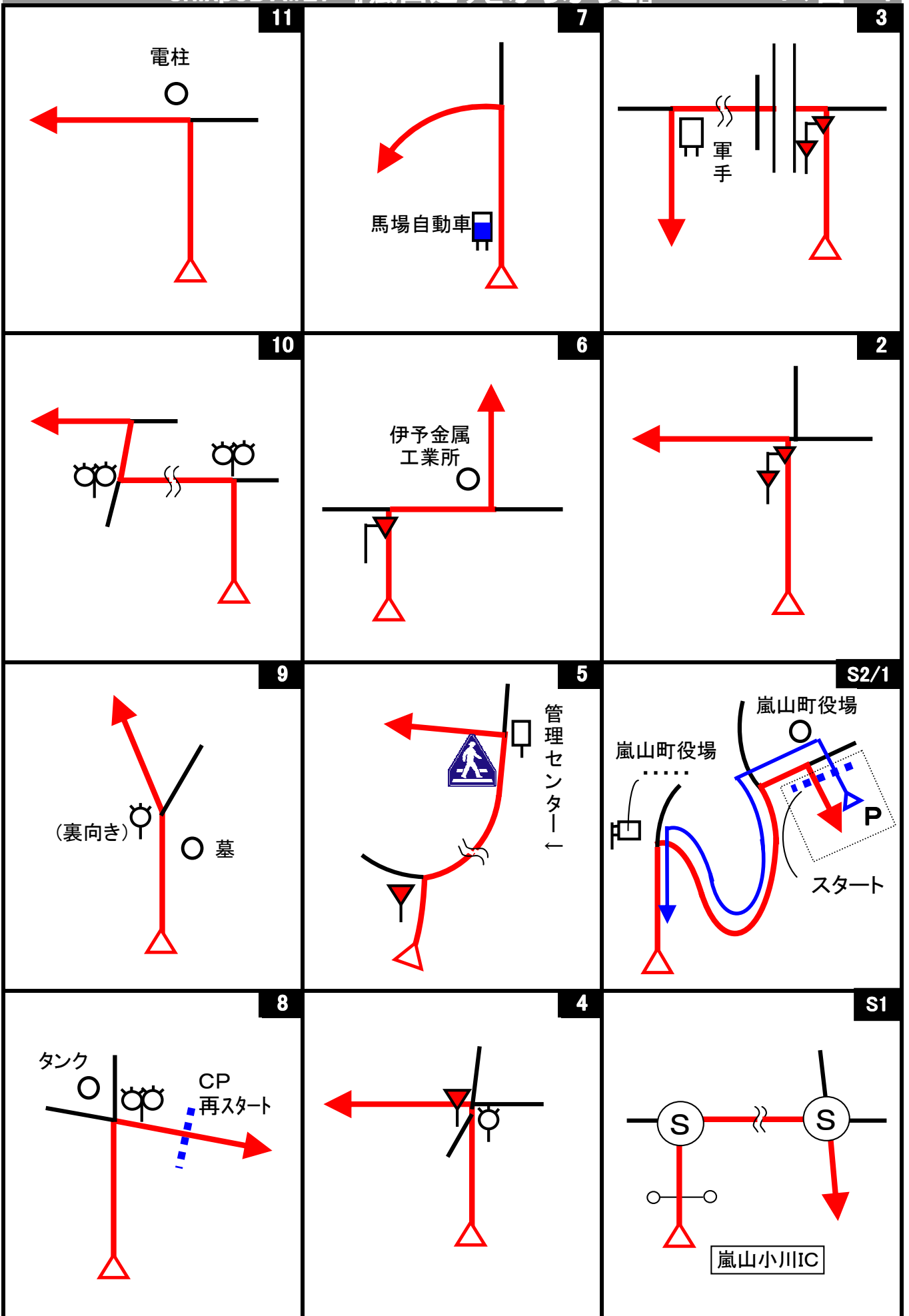
48











## クイズ1(距離計測)

スタートからゴールまでの各CP間の距離を計測して下さい。

◇エンジョイクラス:10mの位は四捨五入して、100m単位で答えて下さい。

(0.1kmの誤差で減点1点)

◇ダンガンクラス:1mの位は四捨五入して、10m単位で答えて下さい。

(0.01kmの誤差で減点1)

## クイズ2

Q-A



(OD先)『嵐山町杉山 県自然環境保全地域』にある、国土地理院が定める地図記号を全て答えよ。但し、道路は除く。  
(減点1点)

Q-B



(8図)タンクの螺旋階段は、何回転しているか？ 小数点以下は切り捨てて整数で答えてください。  
(減点1点)

Q-C



(2CP)農林公園にある『五穀の塔』のこの部分は何を表しているか？  
(減点1点)

Q-D




(2CP)農林公園の木材文化館の入口近くにあるこの年輪盤を寄贈したのは誰か？  
(減点1点)

Q-E



(3CP)大沼公園がある自治体の「鳥」は何か？  
(減点1点)

Q-F



(3CP)大沼公園の記念樹で、この木は何を記念して寄贈したものか？ 寄贈者の名称を洒落で考えて答えてください。  
(減点1点)

Q-G



(3CP)大沼に架かる弁天橋の踏板は、何枚かの板をパネル化したものをそのまま張った箇所と、半分にカットして張った箇所があると思われるが、パネルは何枚使用されているか？  
(減点1点)

Q-H



(20図)『ふれあいバス』の停留所によると、1台のバスで滑川町役場を中心に、北コース南コースを回っている事が判るが、運転手が1人だとすると、運転手さんは昼食のために何分余分に休憩時間をもらっていると考えられるか？  
(減点1点)

Q-I



(20図先)『健康ロード』にある健康施設の内、1つだけ土足禁止になっているが、何故でしょう？  
(減点1点)

Q-J



(4CP)『谷津の里』のトイレは、屋外から入れるトイレなのに土足禁止になっている。何故か？ ここがどういう施設かを考えて教えてください。主催者と同じ答えを正解とする。(減点1点)

Q-K




(5CP)駐車場近くにあるお地藏さんの横にはある動物がありますが、何故でしょう？ 近くに並んでいる菩薩をよく見て教えてください。(減点1点)

Q-L



(6CP)農産物直売所の入口の上にある文字で、ニンジンで隠されている文字は何か？ 店の人などに聞かない事。入口周辺に答えが判るものがあります。(減点1点)

Q-M



(7CP)『「風車の見える丘」整備記念』に複数ある苗字は何か？(減点1点)

Q-N



(8CP)『吉見八景案内図』は、少なくとも何年何月何日以前に建てられたものか？ 案内図表面から得られる情報で教えてください。(減点1点)

Q-O



(9CP)エコミュージアムに飾られている『宮前小6年金井匠くんの絵』で、「年中無休で24時間営業」と紹介されている店は何か？(減点1点)

Q-P



(10CP)鎌形八幡神社のこの建物は、何か？(減点1点)

Q-Q



(10CP)嵐山幼稚園にある木造の建物の正面と左右の棟の飾りは、何を模倣したものか？ 幼稚園ですので行動には十分注意してください。答えは道路から確認出来ます。(減点1点)

Q-R



(54図)菅谷神社参道にある燈明は、誰の何の記念で献燈されたものか？ 具体名も含めて教えてください。(減点1点)

## クイズ3 ポーナスクイズ

BQ-aからBQ-hは、全問正解ならボーナス点2点。1問でも誤答がある場合は減点2点です。解かなかった場合は、ボーナス、減点とも無しです。解く場合は、全てに解答して下さい。無回答がある場合は、誤答と判断します。

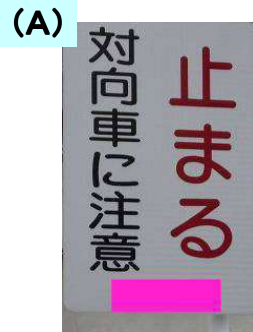
※BQ-aからBQ-jは、あるキーワードの順番に出てきます。

BQ-a



この建物の会社名は？

BQ-b



この変わった標識に一番近いCPは？

BQ-c



この馬は、何か？

BQ-d



これは、何か？

BQ-e



この庚申碑は何図にあるか？

BQ-f



この森は何を活用して整備されたか？

BQ-g



これがあるのは、何という施設か？

BQ-h



この石灯籠の右手にある看板には、何と書かれているか？

BQ-i

(P)  
(写真はありません)

CP(スタート、OD、ゴール含む)やクイズの近くに何か所か公衆電話があるが、公衆番号が「20297番」はどこにある公衆電話か？

BQ-j

(M)  
(写真はありません)

一度に沢山の電車に会えるのは何図、または何図先か？




Start



1図 『嵐山町役場』 駐車場出口  
グレーチング

OD



3図先  
左手の電柱

ここまで、5.638 km

1CP



8図 左手の電柱

2CP



13図 『埼玉県農林公園』  
駐車場前 左手の2本目の木  
手前に駐車場入口あり

再スタートは、Uターンして同じ  
場所から

3CP



17図 『大沼公園』  
左手の電柱  
速やかに左手の駐車場に移動  
のこと  
再スタートは、Uターンして同じ  
場所から

4CP



21図  
『止まれ』標識  
速やかに左手の駐車場に移動  
のこと

4CP再スタート



21図 『谷津の里』  
駐車場出口 停止線

速やかにスタートのこと

5CP



23図 『文殊尊』  
右手の看板

速やかに先にある駐車場に移  
動のこと  
再スタートは、Uターンして同じ  
場所から

6CP



26図 『農産物直売所』前  
左手の白いフェンス前端

速やかに左手の駐車場に移  
動のこと  
再スタートは同じ場所から

7CP



30図 『大岡市民活動センター』前  
右手「P」看板

速やかに右手の駐車場に移動のこと  
再スタートは同じ場所から

8CP



33図 『高負彦根神社』前  
右手の「高負彦根神社(ポンポン山)」看板の向かって左の脚

再スタートは、Uターンして同じ場所から

9CP



38図 『滑川町総合体育館』前  
横断歩道停止線

速やかに駐車場に移動のこと  
再スタートは同じ場所から

10CP



48図 『鎌形八幡神社』前  
駐車場 左手の電柱

再スタートは同じ場所から

FCP



57図 『嵐山町役場』前  
横断歩道停止線

お疲れ様でした！