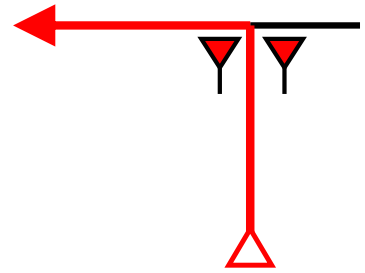
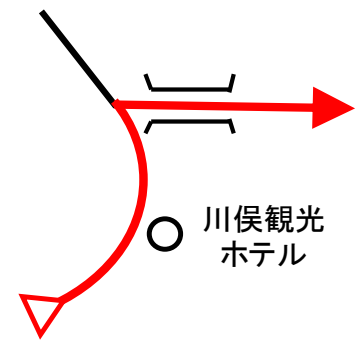


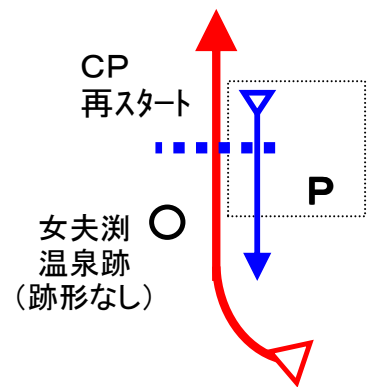
13



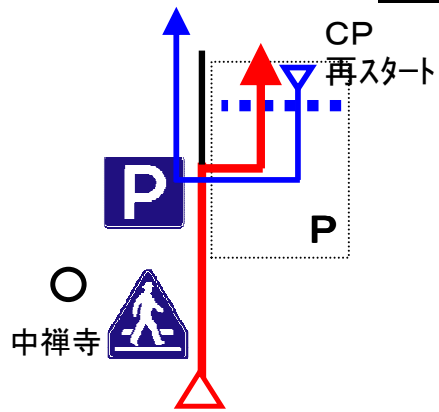
12



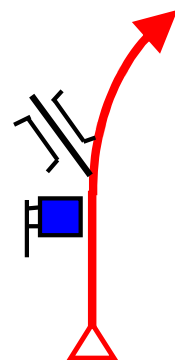
11



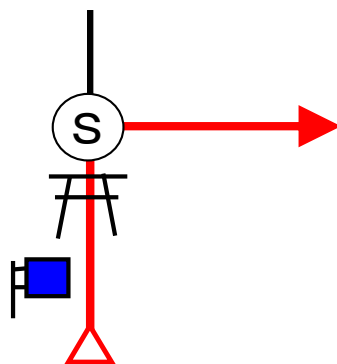
15



10



14

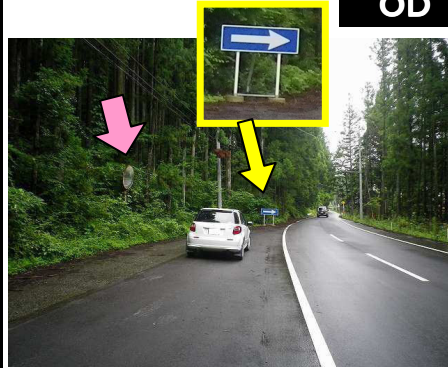


Start



1図 『日光運動公園』 駐車場
出口 左手の石

OD



3図先すぐ
路側帯にある左手のカーブミ
ラー(路側帯先に矢印あり)

ここまで、5.666 km

1CP



3図先 左手の看板

2CP



4図 『大笹牧場』前
左手の案内標識

チェック後、大笹牧場の駐車場
に移動してください

2CP再スタート



4図『大笹牧場』前
右手の裏向き案内標識

3CP



5図
左手の案内標識

右手前に『栗山ふるさと物産セ
ンター』あり

4CP



8図 『川俣ダム』
駐車場入口 舗装とダートの境
(右前輪合わせ)

再スタートは、Uターンして同じ
場所から

5CP



11図 『女夫湯温泉跡』
右手の駐車場看板 手前の脚

再スタートは、Uターンして同じ
場所から

6CP



12図先 左手の『観測施設』鉄
柱

7CP



12図先 左手の案内標識
右手に駐車スペースあり

カーブの出口なので、速やかに
右手の駐車場に移動のこと
再スタートは同じ場所から

8CP



12図先 『光徳牧場』
左手の「追い越し禁止」標識

9CP



15図 『歌が浜駐車場』
小型車駐車スペースと大型車
駐車スペースとの間 路面の境

再スタートはUターンして同じ場
所から

FCP



15図先 『半月山駐車場』入口
左手のトイレ 前端

お疲れ様でした！

クイズ1(距離計測)

スタートからゴールまでの各CP間の距離を計測して下さい。

◇エンジョイクラス: 10mの位は四捨五入して、100m単位で答えて下さい。

(0. 1kmの誤差で減点1点)

◇ダンガンクラス: 1mの位は四捨五入して、10m単位で答えて下さい。

(0. 01kmの誤差で減点1)

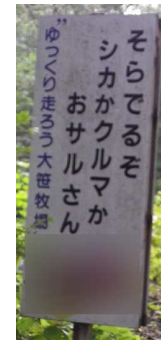
クイズ2

Q-A



(スタート)『日光運動公園』の案内板の表記は、「市」の文字が消えているが、何故か？ 作成者と同じ答えを正解とする。
(減点1点)

Q-B



(1CP) 目標物の看板には、動物はいくつ描かれているか？ 但し、車のドライバーは除く
(減点1点)

Q-C

Q-D



(2CP) 大笹牧場レストハウス2階の体験工房で体験できることを全て、サザエさん一家(磯野家、フゲ田家)が体験すると費用はいくらかかるか？ ある体験の値段は訂正されているようですのでHPなどで調べてください
(減点1点)

Q-E

(2CP)『大笹牧場周辺案内図』には、動物はいくつ描かれているか？ (減点1点)

Q-F



(3CP)『栗山村全域案内図』によると、この案内図設置当時、「栗山中学校」に進学するのは何小学校の児童か？
(減点1点)

Q-G



(5図先)『鬼怒川発電所・黒部ダム』にはいくつか「洪水吐門」があるが、一番古い製作年月はいつか？
(減点1点)

Q-H



(4CP)『瀬戸合峽』は、3CPにあった『栗山村全域案内図』のみどころ紹介では、何の紅葉が関東一と紹介されていたか？ (減点1点)

Q-I



(4CP)「川俣ダム資料室」にある「川俣ダム大きさ比較イラスト」によると、「ダムの長さ」は、何の約何倍か？ (減点1点)

Q-J



(5CP)『奥鬼怒の森では、今』には、「村の木」などのシンボルが描かれているが、今現在もこの地のシンボルになっているのは何か？
(減点1点)

Q-K



橋を渡った先にあります

(5CP)『奥鬼怒自然休養林探勝案内図』にある「鬼怒沼までの所要時間」と、『奥鬼怒歩道』の案内板にある所要時間で、前者の方が時間が短いのは、どこからどこに向かう区間の所要時間か？
(減点1点)

Q-L




(5CP～7CP)の間で、この様式の『幅員減少』はいくつあるか？ 進行方向で確認できるものだけを数えてください。右側にもあります。
(減点1点)

Q-M



(7CP)『治山』の碑は、なぜその様な形をしているか？
(減点1点)

Q-N



(9CP)英国大使館別荘記念公園の入口にある『中禅寺湖周回線歩道案内』で、歌ヶ浜から望んでいるのはどこか？
(減点1点)

Q-O



(FCP)『足尾の治山事業』の説明板の左下にある地図の向き(地図の上)を説明板の写真の方向と一致させるには、地図を何度右方向へ回転すればいいか？ 但し45度単位で考えてください。
(減点1点)

OPクイズは、4CP『瀬戸合峽(川俣ダム)』にあります。吊橋までの所要時間が少し掛かり、約400段の階段がありますので、OPクイズとします。また、9CP～FCPまでの道が17時に閉鎖されますので、4CPで13時を過ぎているようでしたら先を急がれた方がいいと思います。
OPクイズは2問とも正解の場合、ボーナス点1点を与えます。
不正解の場合、未解答の場合はボーナス点も減点もありません。

OP-Q1



(4CP)瀬戸合峽遊歩道入口には、複数の案内看板に入口から「渡らっしゃい吊橋」までの所要時間が書かれている。作成者が実際掛かった時間に一番近い時間が書かれているのはどの看板か？ 「以上」「約」「程度」は無視してください。
作成者は「川俣ダム資料室」でクイズネタを探し(全ての展示物は見えていません)、「ダム管理事務所」でトイレを借り、「展望デッキ」で息切れでしばし休憩し、「天使の鐘」を叩き、「渡らっしゃい吊橋」の踏み板の数を数えながら渡り、戻って来ました。でも意外と・・・(^0^)

OP-Q2



(4CP)「展望デッキ」の円形ベンチの座面の板と「渡らっしゃい吊橋」の踏み板の合計は何枚か？

クイズ3 ポーナスクイズ

BQ-aからBQ-eは、全問正解ならボーナス点2点。1問でも誤答がある場合は減点2点です。
 解かなかった場合は、ボーナス、減点とも無しです。
 解く場合は、全てに解答して下さい。無回答がある場合は、誤答と判断します。

※BQ-aからBQ-eは、あるキーワードの順番に出てきます。

BQ-a

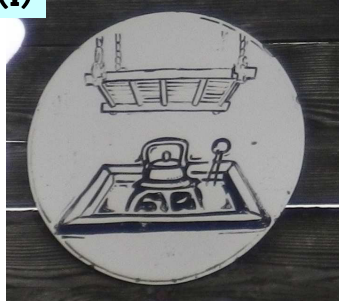
(K)



これは、どこにあるか？

BQ-b

(I)



この絵があるのは、何というお店の看板か？

BQ-c

(N)



この人がこの地に来るきっかけになったことは何か？

BQ-d

(K)



この観音様は、何箇先で交通安全を願っているか？

BQ-e

(O)



『オオタル沢』は、コース上のどこ辺りにあるか？ 作成者に判るように教えてください。