

距離(km)			問題		正解率
クラス	ダンガン	エンジョイ			
スタート～1CP	15.13	15.1	Q-A	庁舎落成	100%
1CP～2CP	7.06	7.1	Q-B	背のばしベンチだから。	100%
2CP～3CP	13.11	13.1	Q-C	崩落箇所	96%
3CP～4CP	10.20	10.2	Q-D	駅間が長く、途中駅で交換ができないため	74%
4CP～5CP	9.61	9.6	Q-E	はしか	100%
5CP～6CP	7.20	7.2	Q-F	八王子駅からの距離	100%
6CP～7CP	7.75	7.8	Q-G	118m	39%
7CP～FCP	15.84	15.8	Q-H	聖、一、三	26%
			Q-I	江戸時代の三寸玉花火の筒	74%
			Q-J	クレヨンしんちゃんの「(野原)しんのすけ」と「シロ」	39%
	85.90	85.9	Q-K	大宮宿	100%
			Q-L	25	13%
OD	6.382		Q-M	大澤明治	100%
			Q-N	四国(八十八) 最上(三十三)	70%
			Q-O	中島正男	65%
			Q-P	石柱の上には猿と鶏がおり、庚申塔の像刻塔に猿や鶏が彫られているものがあることから。	96%
			Q-X	梨子ノ木線	74%
			BQ-a	スタートのフィットネス21パーク	100%
			BQ-b	27図先	100%
			BQ-c	3CP	100%
			BQ-d	OD	100%
			BQ-e	南無大師遍照金剛	95%

## 【解説】コース

4CPとゴールのさざえ堂がメインのコースで、作成者もこんな所にさざえ堂があったんだと思って作成したのですが、shixpoDR#32を作成している時に、2005年のOQM23の時に立ち寄っていることが判明！ 作成のお手伝いをしたのに、全く覚えていませんでした・・・(^-^； 参加者の皆さんは、覚えておられましたか？ さざえ堂は、右回りでしたね。コース途中の小川町駅から寄居駅間のJR八高線は右廻りで、東武東上線は左回りでしたね。

コース案内の最後に書いた、《コース全体は「右回り？左回り？」》の答えは、右回りかな・・・？  
 コマ図で曲がる回数は、右折が28ヶ所、左折が22ヶ所でした。



## 【解説】距離


今回は、後半平坦な道が多く、前半も3CPから4CP間だけが山道でしたので、この区間の距離減点がやはり多めでした。補正ミスと思われる方、OD～1CPの距離を答えられた方がそれぞれ数人いらっしゃいました。規則書にあるおおよその距離と解答の距離合計を比べられるのもミスを防ぐ方法だと思います。勿体ないです。

## 【解説】クイズ

- A 嵐山役場には何度か行ってはいますが、こんなところにこんな石碑があったって皆さんも知らなかったのでは？ そろそろ、嵐山役場でのクイズネタが無くなってきました・・・。
- B スタート地点にBQ問題を置きたくて設定した問題でした。問題の写真で分かった方もいらっしゃるかもしれませんね。
- C これは問題なかったと思います。

D	<p>鉄ちゃんでない方には少し難しかったかもしれませんね。 2CPの折原駅もそうでしたし、途中にあった竹沢駅も上下線が停まるホームが同じ片側ホームでしたね。 本数を増やしたくても対向してくる列車を逃げる場所がありませんでしたね。 竹沢駅は、2016年10月までは上下線別の相対式ホームで、交換ができたそうです。改札口側から反対のホームに渡る跨線橋が朽ちたせいかな？ 階段を上らなくていいので利用者(老人?)にも優しいかも？ 《上下列車の交換(行き違い)が出来ない》の内容の答えを正解としました。 問題文が八高線の事を問うていますので、「東上線は交換できる」など、東上線のみのは不正解としました。</p>
E	<p>これは問題なかったと思います。Q-Eのヒントを確認してもらうために設定しました。 Q-Eがあった地点(11図)は、以前はドン突きではなく、右手の工業団地も無かったので、工業団地造成によりこの地に移されたのかもしれないね。</p>
F	<p>これも鉄ちゃん問題でしたが、線路脇に表示がありましたので、鉄道(八高線)に関する距離であることは簡単に分かったと思います。「折原駅」で検索された方もおられるかもしれませんね。 <a href="https://ja.wikipedia.org/wiki/%E6%8A%98%E5%8E%9F%E9%A7%85">https://ja.wikipedia.org/wiki/%E6%8A%98%E5%8E%9F%E9%A7%85</a></p>
G	<p>折原駅の駅名標の脚に標高が書かれていました。が、ぱっと見「28m172」に見えましたね。 意外と沢山の方が間違えられました。</p>
H	<p>これほど訂正のある説明板は、見たことがありませんね。 間違いに気付かずそのままの説明板よりマシでしょうか？(笑) 最初の間違ひを見つけて安心せず、最後まで説明文を読む必要がありました。 明治二十一年の「一」は、加筆ですがこれも訂正ですので、「聖、一、三」の3つが正解になります。</p>
I	<p>これは、文字が見にくかったですが、問題なかったと思います。 「江戸時代」だけの答えの方が数人いらっしゃいました。問題文が、「いつ時代の何か？」ですので、「何か？」の答えが無いので不正解です。</p>
J	<p>走行中に確認してもらう設定でした。作成者の私も参加者の方々も段々高齢になって来られたので、「動体視力」を試してもらう問題でした(笑)が、わき見運転は危険！って言われるかもしれませんね…(^-^); 無理しなくてもGoogleMapストリートビューで確認できましたね。 <a href="https://goo.gl/maps/NsavYwsrsVv">https://goo.gl/maps/NsavYwsrsVv</a> 問題が「キャラクターは？」ですので、「(野原)しんのすけ」「シロ」が正解です。名字の野原は不問としました。 「クレヨンしんちゃん」はアニメのタイトルですので、不正解です。</p>
K	<p>パネルを順に確認して頂けたら問題なかったと思います。</p>
L	<p>基本的に神社(鳥居)、寺院のマークを数えて頂ければよかったですのですが、1ヶ所鳥居マークだけで神社名が書かれていない神社があり、また金山城址にある「熱田神社」は鳥居マークではなく「●」マークでした。 この2点が注意点でした。</p>
M	<p>これは、問題なかったと思います。</p>
N	<p>これは、4CPで確認しておく必要があった予習問題でしたが、答えは簡単でしたね。</p>
O	<p>これも、順に確認してもらえば簡単でしたね。 坂東観音霊場の五番の舗石を寄進した中正建設・中島正男さんでした。 岩崎工業(株)の答えの方が数人いらっしゃいましたが、問題は、寄進した人の住所ではなく、社名が書かれている人を問うています。岩崎工業(株)は「当所」と地名が書かれていますので、不正解です。</p>
P	<p>曹源寺の山門の両側にある石柱の上には猿と鶏がおり、Q-Eの側にある「庚申塔」の説明文には、「庚申塔の像刻塔に猿や鶏が彫られているものがある」と書かれていたので、曹源寺の石柱も庚申の信仰に関係しているのではないかと考えました。 猿(申)と鶏(酉)に関しての記述がある解答は正解としました。</p>



QX	<p>10図先(11図の少し手前)のここにありました。  <a href="https://goo.gl/maps/87bTBuZbquR2">https://goo.gl/maps/87bTBuZbquR2</a>          林道らしくない所にありました。この標識のすぐ先に車幅制限の柵があったので、見落としやすかったかもしれませんね。ヒントとして、問題の写真に林道標識の下にあった幅員減少標識を一部入れておきました。優しい作成者でしょう?(笑)          更に、もし見落としとしても、車幅制限の柵の先2ヶ所に「森林管理道につき」の標識が立っていましたので、これで気が付く人もいないかもしれないと思い、X問題にしました。誤字、脱字の方は不正解です。</p>	
	X問題のキーワードは、「sazae(さざえ)」でした。	
B-a	子供の遊具を上から見た写真でした。簡単でしたね。	
B-b	<p>27図先の右手にありました。  <a href="https://goo.gl/maps/7ixYnfnpo112">https://goo.gl/maps/7ixYnfnpo112</a>          ストリートビューでは草に隠れていますが、開催期間中は見えたと思います。</p>	
B-c	<p>これは、少し難しかったかもしれません。3CPの左手にあった鉄工置き場(?)のフェンスにありました。3CPのチェックラインからは見えませんでしたが、再スタート直後左手に見えました。3CPのすぐ先は左トの字の交差点になっており、左方車の有無を確認するため少し左方向を見ると、見えたと思います。ストリートビューではデータが古く、鉄工置き場のフェンスがまだありません・・・。</p> <p><a href="https://goo.gl/maps/jaSEZMG5hMy">https://goo.gl/maps/jaSEZMG5hMy</a></p>	
B-d	ODのQ-Cの左横、細い道を挟んだ所にありました。	
B-e	<p>4CPの百体観音堂の正面向かって右手にありました。          台座の正面に彫られた文字を問うているので、誤字は不正解です。</p>	