

クイズ1(距離計測)

スタートからゴールまでの各CP間の距離を計測して下さい。

- ◇エンジョイクラス: 10mの位は四捨五入して、100m単位で答えて下さい。
(0.1kmの誤差で減点1点)
- ◇ダンガンクラス: 1mの位は四捨五入して、10m単位で答えて下さい。
(0.01kmの誤差で減点1点)

クイズ2

Q-A



(スタート)「C11244号蒸気機関車履歴」によると、C11244号の1ヶ月当たりの平均走行距離は何kmか? 四捨五入して整数で答えよ。
(減点1点)

Q-B



(スタート)会津柳津駅は無人駅で、試走時は待合室にも誰もいなかったが、待合室に入るとある定期的な音が聞こえた。何の音か?
(減点1点)

Q-C



(OD)滝谷駅前にあるこの建物の用途は?
(減点1点)

Q-D



(1CP)只見川ビューポイントのB、C、Dには写真の様なベンチが合計いくつあるか?
(減点1点)

Q-E



(2CP)会津西方駅の前には2つの踏切があるが、その踏切間の只見線の距離は何mか?
(減点1点)

Q-F



(11図先)この記念碑の説明文を作った人の当時の役職は?
(減点1点)

Q-G



(3CP)この像のタイトルは?
(減点1点)

Q-H



(4CP)「アー3橋(兄弟)」の説明板の両側に立っているのは何か?
(減点1点)

Q-I



(5CP)「界橋」の竣工は、Q-Fの記念碑の建立の何年前か? 月日は無視して年だけで考えてください。
(減点1点)

Q-J



(6CP)にある「只見川山峡21景」で写真付きで紹介されている21景の内、1CPの駐車場にあった「只見川山峡21景」でも写真付きで紹介されているのは、何番か？ 全て答えよ。
(減点1点)

Q-K



(9CP)試乗車の上の橋梁は、起工から竣工まで何日かかっているか？
(減点1点)

Q-L



(9CP先)「癒しの森」のご案内によると、遊歩道を歩くと現在地から松坂峠頂上まで約何mあると考えられるか？
(減点1点)

Q-M



(9CP先)「松坂峠古戦場」にあるこの説明板によると、この周辺には城がいくつあったか？(固有名称が判る城のみ答えよ)
(減点1点)

Q-N



(25図先)森林の分校ふざわの校舎の前にあるこれは、どこの何の工事で見つかったか？
(減点1点)

Q-O



(11CP)水久保(水窪)城がある山の標高は？
(減点1点)

Q-P









(11CP)「只見町観光マップ」によると、只見町にはガソリンスタンドは何ヶ所あるか？ (減点1点)

クイズ3 ポーナスクイズ

BQ-aからBQ-fは、全問正解ならボーナス点2点。1問でも誤答がある場合は減点2点です。
 解かなかった場合は、ボーナス、減点とも無しです。
 解く場合は、全てに解答して下さい。無回答がある場合は、誤答と判断します。

※BQ-aからBQ-fは、あるキーワードの順番に出てきます。

<p style="text-align: right;">BQ-a</p> <p>(A)</p> 	<p style="text-align: right;">BQ-b</p> <p>(D)</p> 	<p style="text-align: right;">BQ-c</p> <p>(A)</p> 
<p>この送水管は、何発電所へ水を運んでいるか？</p>	<p>この看板(?)がある家の1階で営んでいる商売は？</p>	<p>この遊具は、何駅前にあるか？</p>
<p style="text-align: right;">BQ-d</p> <p>(T)</p> 	<p style="text-align: right;">BQ-e</p> <p>(I)</p> 	<p style="text-align: right;">BQ-f</p> <p>(M)</p> 
<p>このスケールは、何CP(スタート、OD、ゴール含む)にあるか？ 複数回出てくる場合は、最初に出てくるCPを答えよ。</p>	<p>このキャラクターの向かって左横にいるのは？</p>	<p>これに一番近いクイズは？(BQは除く)</p>