

距離(km)			問題		正解率
クラス	ダンガン	エンジョイ			
スタート～1CP	22.99	23.0	Q-A	4)、2)、1)、6)、3)、5)	100%
1CP～2CP	7.74	7.7	Q-B	1つ	67%
2CP～3CP	6.18	6.2	Q-C	ししおどし	100%
3CP～4CP	16.78	16.8	Q-D	小林	100%
4CP～5CP	14.21	14.2	Q-E	氏子、23名	67%
5CP～6CP	11.70	11.7	Q-F	(0260-22-)3331	67%
6CP～7CP	2.50	2.5	Q-G	4CP	92%
7CP～8CP	11.65	11.6	Q-H	為栗、鶯巣、伊那小沢、中井侍	92%
8CP～9CP	18.27	18.3	Q-I	長野県	100%
9CP～FCP	15.52	15.5	Q-J	柚子	75%
			Q-K	緊急時に避難する場所なのに余りにも遠いため。	100%
			Q-L	105ヶ月後	83%
			Q-M	107ヶ月後	92%
			BQ-a	22図	100%
			BQ-b	月下美人	100%
			BQ-c	ゴール	100%
			BQ-d	危険です！柵の中に入らないでください。	100%
			BQ-e	Q-Dの近くの擁壁の上	100%
			BQ-f	34図先	92%
			BQ-g	火の見やぐら	83%
OD	6.740				

【解説】 コース

shixpoDR#35もそうでしたが、この時期としては、距離も長く、見どころも一杯あり、狭い道も多かったので大変でしたね。特に、中井侍駅の前後や金野駅への道は狭くて気を使われたでしょうか？

観光列車「飯田線秘境駅号」は、相変わらず毎回チケット完売の様です。

https://headlines.yahoo.co.jp/article?a=20191216-00031453-president-bus_all&p=1

【解説】 距離

CP間距離が長い区間が多かったため、皆さん減点が多めでしたが、2チームが一桁減点でした。

【解説】 クイズ

全問正解が3チームありました。難問は無かったと思います。間違えられた方も勿体ない間違いが多かった様に思います。

- A 駅には、どんな小さな駅でも、大体は公衆電話とポストがあるので、秘境駅にも必ずあるのが気になり問題にしました。最初はポストも考えていたのですが、伊那小沢駅と門島駅にはありませんでしたので、公衆電話だけにしました。流石に為栗駅、中井侍駅と金野駅にはどちらもありませんでしたね。





	公衆整理番号	順番
1) 唐笠駅	50022	3
2) 温田駅	50020	2
3) 平岡駅	50035	5
4) 大嵐駅	25562	1
5) 伊那小沢駅	54878	6
6) 門島	50023	4

- B 『下條村ガイドマップ』には、ガソリンスタンドは2ヶ所ありました。こちらは、下條村だけの案内板だったので判りやすかったですね。右側の案内板は、下條村の他、阿南町、泰阜村も描かれていましたので、町村境を確認して下條村にあるガソリンスタンドを数える必要がありました。こちらには3か所のガソリンスタンドがありましたので、1ヶ所閉店したのでしょね。

「11」のお答えの方がいらっしやいました。右側の案内板の全てのガソリンスタンドを数えられたのでしょね。

- C これは、説明板を見れば簡単でしたね。問題文からも推測できたかもしれませんね。

- D これも問題なかったですね。バス停も時刻表もありませんでしたから、平成25年1月に竣工したばかりなのに、もうここにはバスは来ないのでしょね

E	説明板の文字が消えかかっている、大変だったでしょうか？ コース案内に書いた通り、国の無形民俗文化財の伝統行事が住民の減少及び高齢化により、12年前から中止されていることを紹介したくてクイズにしました。 「廿三名」の「廿」を「十」と間違えられた方が、何人かいらっしゃいました。	
F	「信じて進んだのに判りませんでした！」とのお叱りを何人かの方から頂きました…(^-^); 8CPの為栗駅前にあった看板に答えがありました。 コース案内に、『キャンプ場もあり駅前にはその案内看板もあるのだが…』とヒントを入れて、看板が目につくようにQ-Kで駅の待合所まで足を運んでもらったのですが…。 この看板がその役目を果たしたのは、何回あったのかな…？ 現在の「ふるさと味覚小屋」の電話番号と思われるお答えがありました。	
G	開催期間中に展示内容の更新があり、問題の写真が外されてしまった様ですが、あるエントラントの方のご尽力で山積みされた写真の山から発掘して頂いた様です。ありがとうございました。 問題文が『何CPか?』なので、駅名で答えられた方は残念ながら不正解です。	
H	『秘境 信州遠山郷』に描かれていた天龍村の駅は、「平岡」だけでしたので、残りの天龍村にある駅は、「為栗」、「鶯巣」、「伊那小沢」、「中井侍」の4つです。	
I	これは問題なかったと思います。	
J	Q-Hの『秘境 信州遠山郷』で予め確認しておく必要があった予習問題でした。 絵だけでは判断が難しかったですが、「ゆべしの里」と書かれていたので、「柚子」と判ったと思います。 「ゆべし」のお答えの方がいらっしゃいましたが、これは柚子や胡桃を使ったお菓子のことです。	
K	これは、Q-Fの答えを見つけてもらうために設定した問題でした。	
L	これも、予習問題でした。 為栗橋りょうが塗装されたのは2007年9月で、門島橋りょうが塗装されたのは2016年6月でしたので、105ヶ月後でした。	
M	これもまた、予習問題でした。 為栗橋が竣工したのは昭和38年3月で、米川橋が竣工したの昭和47年2月でしたので、107ヶ月後でした。	
	X問題のキーワードは、素直に「iidasen(飯田線)」でした。 特に見落としやすいものはなかったと思います。	
BQ	22図のドン突きの正面にありました。 -a https://goo.gl/maps/SoPrGcSaGivVMn9aA	
BQ	スタート直後に出てきました。尾針さんお教え(※)を守って(笑)、いつもはODまでにはX問題を置かない(スタートは除く)のですが、今回初めて置いてみました。 -b https://goo.gl/maps/hQVCd3ET2UpCGW3n6 ※尾針さんのコース作成のお手伝いをした時、「ODまでの間にX問題は置かないのですか?」とお聞きしたら、『スタートからODまではどうコース取りをするかを主に考えているから、置かない』っておっしゃっていました。 DRに限らず、今のSS主体のスタイルになる前のラリーでは、スタートからOD(MCP)までは、その後の走り方に大きく影響する基準距離であり、ミスコースしない様、距離に誤差が出ない様、コース取りが重要だったのですよね。今回のODまでの道はどうだったでしょう…? 適した道だったのでしょうか?	
BQ	ゴールの金野駅のホームに上がる階段の横にありました。 -c https://goo.gl/maps/SpDvQMYuA9idiGJJ7 見落としでも、少し手前でBQ-fが出てきましたから、ゴールと判りましたね。 この看板が立てられた時は、魚釣り、水遊びやキャンプをする人がいたのかな…?	
BQ	朝早いスタートの方は、気が付きにくかったかもしれませんが、雰囲気からスタートの道の駅にあると想像できましたね。漢字のふり仮名まで答えて頂いた方もいらっしゃいましたが、ふり仮名は不問としました。 -d	
BQ	チョット見つけにくかったでしょうか? 1年前の試走時には気が付いていませんでした…(^-^); -e https://goo.gl/maps/HEi1RY4eeR1JG2Lz6	
BQ	この前に出てきたのが、22図のBQ-aだったので、結構間が空いて不安だったでしょうか? -f 34図先というより、35図の少し手前にありました。 https://goo.gl/maps/o8Bxgi86uKoGVvRZ7	
BQ	久しぶりの廃車問題でした。5CPのすぐ先にありました。 -g https://goo.gl/maps/wRVrTBnFgoz9ccYr7 手前には火の見櫓がありました。「梵鐘」のお答えの方がおられ、「半鐘」なら正解にしたのですが、「梵鐘」はお寺の鐘ですので不正解としました。	