

クイズ1(距離計測)

スタートからゴールまでの各CP間の距離を計測して下さい。1mの位は四捨五入して、10m単位で答えて下さい。(0.01kmの誤差で減点1)

クイズ2 Q-A



(1CP)この『風景の指輪』を1/10にすると指輪のサイズでは何号に相当するか？(題名が書かれたプレート側で計測。垣根は荒さ無い事。) (減点5)

Q-B



(13図先)13図から14図の間にこの看板はいくつあるか？(減点1/誤差1つ 最大5点)

Q-C



(14図先)119回PDQM問題Eの道標の碑材はどこ産の石か？(減点5)

Q-D



(4CP)高麗神社の「参拝諸名士芳名」によると埼玉県知事として参拝した人は何人いるか？(減点1/誤差1人 最大5点)

Q-E




(22図出口)この碑によると、高林謙三が発明した茶葉揉捻機は専売特許何号か？(減点5)

Q-F



(5CP)出雲伊波比神社の本殿が再建されたのは、7CPの鎌形八幡神社の本殿が建立された何年前か？(減点5)

Q-G



(6CP)この橋の幅は何cm？(10cm単位) (減点5)

Q-H



(31図先)この『サマンサ』は、何建設にいるか？(右側にあります)(減点5)

Q-I




(7CP)鎌形八幡神社にあるこの献木(写真左)に関わる皇室の方と、高麗神社の「参拝諸名士芳名」の前にあった献木(写真右)に関わる皇室の方との関係は？(減点5)



(7CP先)7CP先にある橋の欄干には、写真のような花の絵は合計何面あるか？
(減点1/誤差1つ 最大5点)




(8CP)8CP前後の道は、全線開通後未舗装であったのは何年間か？ (減点5)




(9CP)鉢形城跡にあるこの井戸の深さは地面から何mか？(四捨五入して1m単位で答えよ)
※井戸の中には入らない事
(減点5)



(46図先)46図から47図の間にある看板はいくつあるか？
(減点1/誤差1つ 最大5点)



(ゴール)『本庄早稲田駅建設費募金 募金者ご芳名板』(駅内にある)によると、早稲田大学の募金額は駅の建設費総額の約何%に相当するか？(四捨五入して整数で答えよ) (減点5)



(ゴール)『本庄早稲田駅建設費募金 募金者ご芳名板』(駅内にある)によると、家の購入記念として募金した人は誰？
(減点5)

クイズ3 ポーナスクイズ

5問正解ならボーナス点5点。1問でも誤答がある場合は減点5点です。
解かなかった場合は、ボーナス、減点とも無しです。
解く場合は、5問全てに解答して下さい。無回答がある場合は、誤答と判断します。



このモニュメントは何図から見えるか？



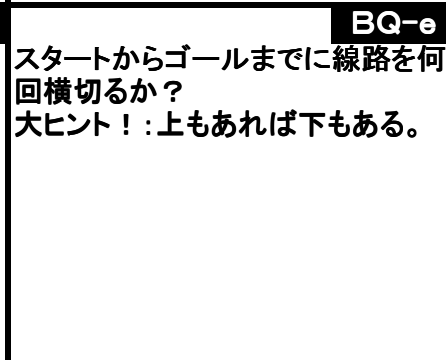
この牛は何図先にいるか？



このパーマンは、何図先にいるか？



この人は誰？



スタートからゴールまでに線路を何回横切るか？
大ヒント！：上もあれば下もある。